

**Đề thi Toán lớp 1**  
(Global Success)

**I. Phần trắc nghiệm (5 điểm)**

Khoanh tròn vào đáp án đúng:

**Câu 1.** Số gồm 6 chục và 6 đơn vị được viết là:

A. 10    B. 6    C. 66    D. 60

**Câu 2.** Số lớn nhất trong các số 42, 63, 19, 3 là:

A. 42    B. 63    C. 19    D. 3

**Câu 3.** Số liền trước số 51 là số:

A. 53    B. 52    C. 51    D. 50

**Câu 4.** Dấu thích hợp để điền vào chỗ chấm  $52 \dots 95$  là:

A.  $<$     B.  $>$     C.  $=$

**Câu 5.** Kết quả của phép tính  $15 + 4$  là:

A. 20    B. 19    C. 18    D. 17

**II. Phần tự luận (5 điểm)**

**Bài 1 (2 điểm).** Đặt tính rồi tính:

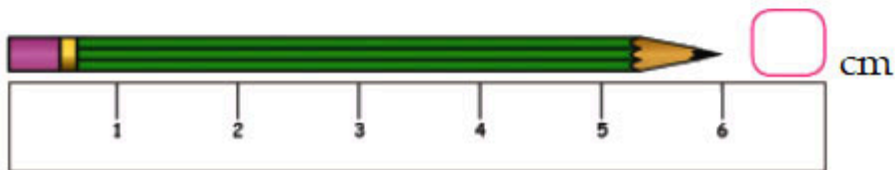
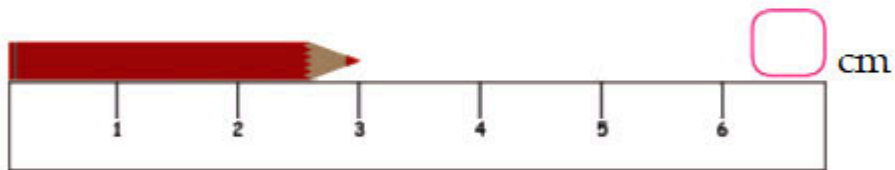
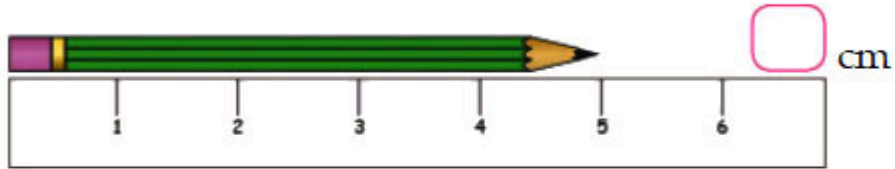
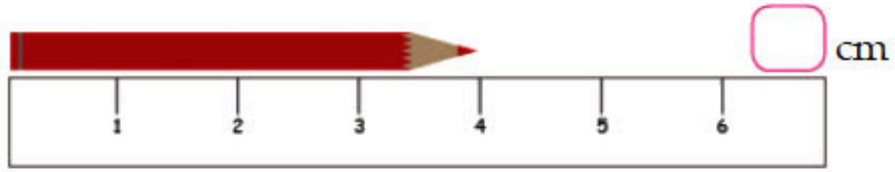
$14 + 2$      $26 + 3$      $30 + 12$      $50 + 20$

**Bài 2 (2 điểm).**

a) Điền dấu  $<$ ,  $>$ ,  $=$  thích hợp vào chỗ chấm:

$36 \dots 12$      $49 \dots 5$      $10 + 20 \dots 30$      $23 + 4 \dots 28$

b) Điền số thích hợp vào ô trống.



**Bài 3 (1 điểm).** Viết phép tính thích hợp vào ô trống:

Lớp 1A có 21 bạn nữ và 15 bạn nam. Hỏi lớp 1A có tất cả bao nhiêu học sinh?

--	--	--	--	--