










Đề thi Toán lớp 1
(Global Success)

Câu 1. Khoanh vào số thích hợp.

 4 5 6	 3 2 1	 7 8 9
 7 6 9	 3 4 5	 8 9 10
 6 8 9	 2 3 1	 9 6 8

Câu 2. Tính nhẩm:

$9 - 6 = \dots$	$1 + 2 = \dots$	$3 + 4 = \dots$	$5 - 2 = \dots$
$2 + 7 = \dots$	$7 - 6 = \dots$	$6 + 2 = \dots$	$10 - 5 = \dots$


Câu 3. Cho các số 3, 6, 9:

- a) Sắp xếp các số đó theo thứ tự từ bé đến lớn.
- b) Trong các số đó, số nào lớn nhất, số nào bé nhất?
- c) Trong các số đó, những số nào vừa lớn hơn 5, vừa bé hơn 8?

Câu 4. Điền dấu $<$, $>$, $=$ thích hợp vào chỗ chấm:

$2 + 3 \dots 6$
 $8 - 2 \dots 5$
 $1 + 3 \dots 4$

Câu 5. Nói các số từ 1 tới 10, sau đó tô màu để hoàn thiện bức tranh.



.....
.....
.....
.....