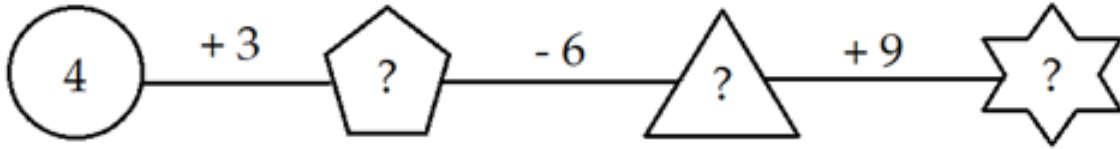




Đề thi Toán lớp 1
(Global Success)

Câu 1. Điền số thích hợp vào ô trống.






Câu 2. Dựa vào hình vẽ, viết phép tính thích hợp và tính:

a)  $+$  $=$ 

b)  $-$  $=$ 

c)  $+$  $=$ 

d)  $-$  $=$ 

Câu 3. Cho các số 2, 6, 9:

- Sắp xếp các số đó theo thứ tự từ lớn đến bé.
- Trong các số đó, số nào lớn nhất, số nào bé nhất?
- Trong các số đó, số nào vừa lớn hơn 7, vừa bé hơn 10?

Câu 4. Điền số thích hợp vào chỗ chấm:

Trên hình vẽ có:

..... khối lập phương

..... khối hộp chữ nhật



Câu 5. Tìm hình thích hợp để đặt vào dấu “?”.



A.



B.



C.

