

Đề thi Toán lớp 1
(Global Success)

I. TRẮC NGHIỆM

Em hãy khoanh tròn vào chữ cái đặt trước kết quả đúng:

Câu 1. Các số bé hơn 8:

- A. 4, 9, 6
- B. 0, 4, 7
- C. 8, 6, 7

Câu 2. Kết quả phép tính: $9 - 3 = ?$

- A. 2
- B. 4
- C. 6

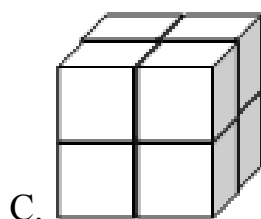
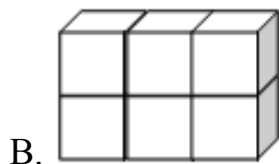
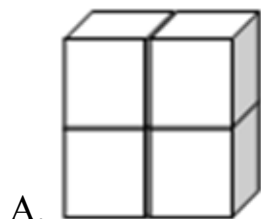
Câu 3. Sắp xếp các số 3, 7, 2, 10 theo thứ tự từ bé đến lớn:

- A. 2, 3, 7, 10
- B. 7, 10, 2, 3
- C. 10, 7, 3, 2

Câu 4. Số cần điền vào phép tính $8 + 0 = 0 + \dots$ là:







- A. 7
- B. 8
- C. 9

Câu 5. Hình nào là khối lập phương?











II. TỰ LUẬN

Câu 6. Khoanh vào số thích hợp.

 6 7 8	 3 4 1	 10 8 9
 6 5 4	 2 5 4	 3 5 4

Câu 7. Số (theo mẫu).


 1	}	3	 <input type="text"/>	}	9
 2			 5		
 6	}	<input type="text"/>	 <input type="text"/>	}	5
 2			 <input type="text"/>		

Câu 8. Tính:

$8 + 1 = \dots\dots\dots$

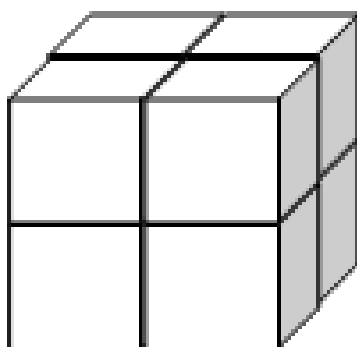
$10 + 0 - 5 = \dots\dots\dots$

Câu 9. Viết phép tính thích hợp vào ô trống.



--	--	--	--	--

Câu 10. Số?



Có ... khối lập phương.