

Đề thi Toán lớp 1
(Global Success)

Phần I. Trắc nghiệm

Khoanh tròn vào chữ cái đặt trước kết quả đúng:

Câu 1. Các số bé hơn 7 là:

- A. 4, 9, 3
- B. 5, 0, 6
- C. 3, 8, 7
- D. 6, 1, 9

Câu 2. Kết quả của phép tính: $8 - 3 = ?$

- A. 3
- B. 6
- C. 4
- D. 5

Câu 3. Sắp xếp các số: 5, 3, 9, 6 theo thứ tự từ bé đến lớn:

- A. 3, 5, 6, 9
- B. 5, 9, 6, 3
- C. 9, 6, 5, 3
- D. 6, 9, 5, 3

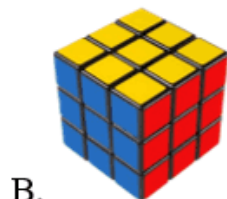
Câu 4.

$$6 + 0 = 0 + \dots\dots$$

Số cần điền vào phép tính là:

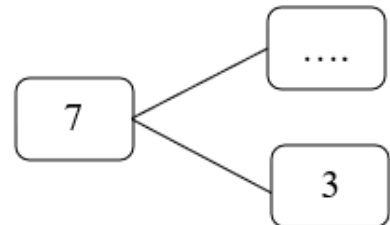
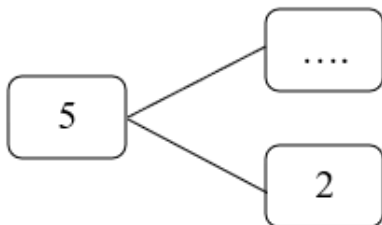
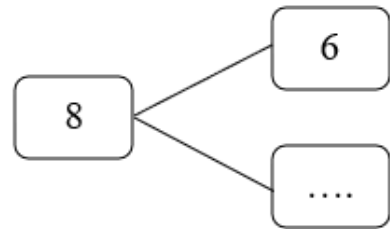
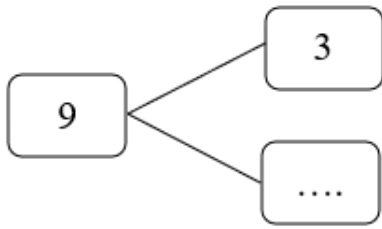
- A. 5
- B. 6
- C. 4
- D. 7

Câu 5. Đồ vật có khối lập phương là:



Phần II. Tự luận

Câu 6. Số?



Câu 7. Tính:

$$5 + 3 = \dots\dots\dots$$

$$10 - 6 + 3 = \dots\dots\dots$$

$$9 - 6 = \dots\dots\dots$$

$$6 + 3 - 2 = \dots\dots\dots$$

Câu 8. Số?



Có hình vuông

Câu 9. Số?

1	2	3
...	5	4	3

Câu 10. Điền dấu $>$, $<$, $=$ thích hợp vào chỗ chấm:

$$5 \dots\dots 9$$

$$6 \dots\dots 5$$

$$4 \dots\dots 2$$

$$8 \dots\dots 3 + 5$$

$$6 - 4 \dots\dots 3$$

$$4 + 2 \dots\dots 5$$