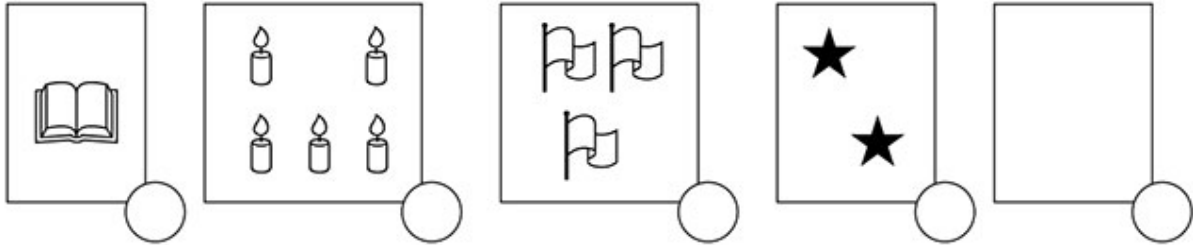


Đề thi Toán lớp 1
(Global Success)



Câu 1 (2 điểm). Điền số thích hợp vào ô tròn.



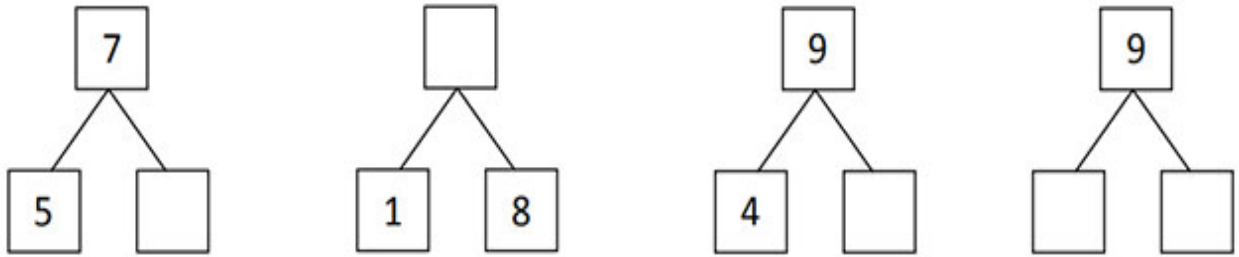
Câu 2 (2 điểm). Điền số vào ô trống.

0		2		4				8	
9				5		3			0

Câu 3 (1 điểm). Quan sát tranh và điền dấu >, < hoặc = vào chỗ chấm (...).



Câu 4 (2 điểm). Số?



Câu 5 (1 điểm). Viết các số 3; 9; 8; 0; 5:

a) Theo thứ tự từ bé đến lớn:;;;;

b) Theo thứ tự từ lớn đến bé:;;;;

Câu 6 (2 điểm). Số?

$$1 > \dots\dots\dots \quad 3 = \dots\dots\dots$$

$$2 < \dots\dots\dots < 4 \quad 0 < \dots\dots\dots < 2$$

$$6 > \dots\dots\dots \quad 4 < \dots\dots\dots$$

$$9 > \dots\dots\dots > 7 \quad 8 > \dots\dots\dots > 6$$