

Đề thi Giữa kì 1 Toán lớp 5

(Bộ sách: Kết nối tri thức)


I. Phần trắc nghiệm. (3 điểm)

Khoanh tròn vào chữ cái đặt trước câu trả lời đúng:

Câu 1. Diện tích bàn học của em là: **(0,5 điểm)**

- A. 57 cm²
- B. 57 dm²
- C. 57 m²
- D. 57 mm²

Câu 2. Hỗn số biểu diễn phần tô màu trong hình là: **(0,5 điểm)**



- A. $1\frac{3}{4}$
- B. $3\frac{4}{3}$
- C. $1\frac{1}{4}$
- D. $3\frac{1}{4}$

Câu 3. Số thập phân 5,009 đọc là: **(0,5 điểm)**

- A. Năm phẩy chín
- B. Năm phẩy không không chín
- C. Năm phẩy không chín
- D. Năm phẩy không không không chín

Câu 4. Điểm số môn Toán của Mai là 9,75. Làm tròn số này đến hàng đơn vị thì điểm số môn Toán của Mai là: **(0,5 điểm)**

- A. 10 điểm
- B. 9,8 điểm
- C. 9 điểm
- D. 9,75 điểm

Câu 5. Có bao nhiêu số tự nhiên thoả mãn điền vào chỗ chấm sau: $4,3 < \dots < 12,93$? **(0,5 điểm)**

- A. 8 số
- B. 9 số
- C. 10 số
- D. 11 số

Câu 6. Một xưởng nhập hàng 3 lần, trung bình mỗi lần nhập được 4 tấn 200 kg. Biết lần thứ nhất nhập được 3 tấn 700 kg; lần thứ hai nhập được 4 tấn 300 kg. Hỏi lần thứ ba nhập được số tấn hàng là: **(0,5 điểm)**

- A. 4,2 tấn
- B. 3,58 tấn
- C. 4,5 tấn
- D. 4,6 tấn

II. Phần tự luận. (7 điểm)

Bài 1. Viết phân số thành phân số thập phân: (1 điểm)

a) $\frac{12}{50} = \dots\dots\dots$

b) $\frac{28}{400} = \dots\dots\dots$

c) $\frac{7}{250} = \dots\dots\dots$

d) $\frac{7}{7000} = \dots\dots\dots$

Bài 2. Đặt tính rồi tính: (2 điểm)

139 382 + 56 466

.....
.....
.....

665 000 – 312 739

.....
.....
.....

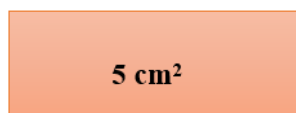
3 382 × 13

.....
.....
.....
.....
.....

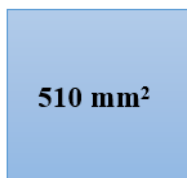
67 764 : 12

.....
.....
.....
.....
.....

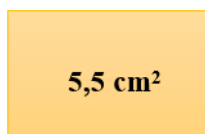
Bài 3. (1 điểm) Cho các hình có diện tích như sau:



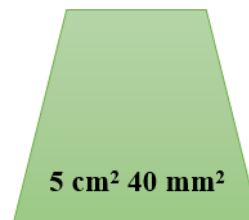
Hình A



Hình B



Hình C



Hình D

Viết tên các hình theo thứ tự hình có diện tích từ bé đến lớn:

.....

Bài 4. Viết một chữ số thích hợp vào chỗ chấm: **(1 điểm)**

a) $8\dots,83 < 80,89$

b) $66,1 > 62,\dots9$

c) $62,9\dots > 62,989$

d) $5\dots5,7 > 595,6$

Bài 5. Tính giá trị biểu thức: **(1 điểm)**

a) $5 \text{ tấn} - 285 \text{ kg} \times 3 + 372 \text{ kg}$

b) $6 \text{ ha} - 89 \text{ km}^2 \times 3$

=

=

=

=

=

=

Bài 6. Cho bốn chữ số: 1,2,3,4. Hãy viết số thập phân lớn nhất lập được từ các chữ số đã cho sao cho mỗi chữ số đã cho xuất hiện trong cách viết đúng một lần. **(1 điểm)**

.....