

Đề thi Giữa kì 1 Toán lớp 4

(Bộ sách: Kết nối tri thức với cuộc sống)

Phần 1. Trắc nghiệm (4 điểm)

Khoanh tròn vào chữ cái đặt trước câu trả lời đúng:

Câu 1. Chữ số 7 trong số 172 938 thuộc hàng là:

- A. Hàng chục
- B. Hàng trăm
- C. Hàng nghìn
- D. Hàng chục nghìn



Câu 2. Số lẻ bé nhất có 6 chữ số là:

- A. 999 999
- B. 111 111
- C. 100 001
- D. 100 000

Câu 3. Số 9 875 624 làm tròn đến hàng trăm nghìn là:

- A. 9 000 000
- B. 9 900 000
- C. 9 800 000
- D. 10 000 000

Câu 4. Cho hình vẽ dưới đây:



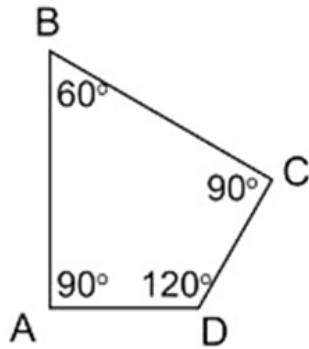
Trong các số ghi trên đầu tàu và toa tàu ở trên, số bé nhất là:

- A. 380 999 999
- B. 99 999 999
- C. 1 000 000 000
- D. 380 000 982

Câu 5. Số liền trước của số 200 000 là số:

- A. 100 000
- B. 200 001
- C. 199 999
- D. 100 009

Câu 6. Cho hình vẽ dưới đây:



Góc có số đo 60° là:

- A. Góc đỉnh A; cạnh AB, AD
- B. Góc đỉnh B; cạnh BA, BC
- C. Góc đỉnh C; cạnh CB, CD
- D. Góc đỉnh D; cạnh DC, DA

Câu 7. năm 2025 thuộc thế kỉ là:

- A. XIX
- B. XX
- C. XXI
- D. XXII

Câu 8. Giá trị của biểu thức $(m + 4) \times 3$ với $m = 21$ là

- A. 75
- B. 21
- C. 25
- D. 12

Phần 2. Tự luận (6 điểm)

Câu 9. Đúng ghi Đ, sai ghi S

a) Số 1 387 000 làm tròn đến hàng trăm nghìn được: 1 300 000.

b) Số lẻ nhỏ nhất có hai chữ số giống nhau là 33.

c) So sánh: $99\,999\,999 > 1\,000\,000\,000$.

d) Chữ số 7 ở số 345 678 910 thuộc hàng chục nghìn.

Câu 10. Tính giá trị của biểu thức. (1 điểm)

a) $8\,000 \times 5 : 4$

b) $13\,206 \times (28 : 7)$

.....
.....
.....

Câu 11. Điền số thích hợp vào chỗ trống: (1 điểm)

a) 6 tạ 5 kg =kg

b) $9\,234\text{ cm}^2 = \text{.....dm}^2 \text{cm}^2$

c) 5 phút 48 giây =giây

d) 5 thế kỉ =năm

Câu 12. Tâm đến cửa hàng văn phòng phẩm mua 5 quyển vở, mỗi quyển giá 8 000 đồng. và mua 1 hộp bút chì màu giá 25 000 đồng. Tâm đưa cho cô bán hàng 100 000 đồng. Hỏi cô bán hàng phải trả lại Tâm bao nhiêu tiền? (2 điểm)

Bài giải

.....

.....

.....

.....

.....

Câu 13. Cho các chữ số 1, 0, 5, 3, 7 và 8. Lập số lớn nhất và số bé nhất có 6 chữ số khác nhau từ các chữ số trên. (1 điểm)

Bài giải

.....

.....

.....

.....

.....