

**Đề thi Học kì 1 - Kết nối tri thức năm 2025**

**Môn: Toán lớp 3**

**Phần 1. Trắc nghiệm. (3 điểm)**

*Khoanh tròn vào chữ cái đặt trước câu trả lời đúng:*

**Câu 1.** Số gồm 4 trăm, 2 chục, 9 đơn vị là:

A. 429

B. 492

C. 249

D. 294

**Câu 2.** Giá trị của biểu thức  $145 + 784 - 87$  là:

A. 732

B. 742

C. 842

D. 832

**Câu 3.** Đồ vật trong hình bên có dạng khối gì?



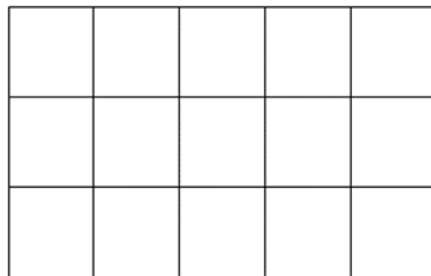
A. Khối cầu

B. Khối lập phương

C. Khối trụ

D. Khối hộp chữ nhật

**Câu 4.**  $\frac{1}{3}$  số ô vuông là:




A. 5 ô vuông

B. 3 ô vuông

C. 6 ô vuông

D. 4 ô vuông

**Câu 5.** Số quả cherry gấp mấy lần số táo?



A. 3 lần

B. 1 lần

C. 6 lần

D. 2 lần

**Câu 6.** Nhiệt độ nào dưới đây phù hợp với ngày nắng nóng?

- A. 0oC
- B. 2oC
- C. 100oC
- D. 36oC

**Phần 2. Tự luận. (7 điểm)**

**Câu 7. (1 điểm)** Đúng ghi Đ, sai ghi S

a) Số 235 là số liền sau của 236

b) Muốn tìm số bị trừ, ta lấy hiệu cộng với số trừ

c) Hình vuông có 4 góc vuông và 5 cạnh có độ dài bằng nhau

d) Các mặt của khối hộp chữ nhật đều là hình chữ nhật

**Câu 8. (2 điểm)** Đặt tính rồi tính

a)  $157 + 650$

b)  $509 - 397$

c)  $35 \times 5$

d)  $86 : 6$

.....

.....

.....

.....

.....

.....

.....

.....

.....

.....

.....

.....

.....

.....

.....

.....

**Câu 9. (2 điểm)** Bác Dũng có nuôi 120 con gà. Sau khi bán, số gà của bác Dũng giảm đi 4 lần. Hỏi bác Dũng còn lại bao nhiêu con gà?

Bài giải

.....

.....

.....

.....

**Câu 10.** (1 điểm) Điền số thích hợp vào chỗ chấm

a)  $145 + \dots = 231$

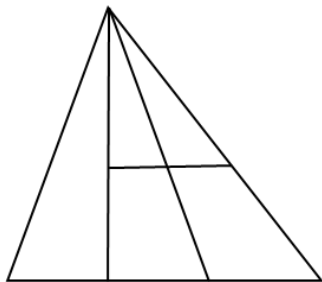
b)  $\dots - 84 = 261$

c)  $144 : \dots = 3$

d)  $\dots : 2 = 98$

**Câu 11.** (1 điểm) Điền số thích hợp vào chỗ chấm

Hình vẽ bên có:



..... hình tam giác

..... hình tứ giác