

Đề thi Giữa kì 1 Toán lớp 3

(Bộ sách: Cánh diều)

Phần I. Trắc nghiệm

Khoanh tròn vào chữ cái trước câu trả lời đúng:

Câu 1. Gấp 5 lên 7 lần ta được:

A. 45

B. 30

C. 35

D. 40

Câu 2.

$$1 \text{ kg} = \dots \text{ g}$$

Số thích hợp điền vào chỗ chấm là:

A. 100

B. 10

C. 101

D. 1 000

Câu 3. Giảm 42 đi 6 lần ta được:

A. 7

B. 6

C. 5

D. 8

Câu 4. Cho dãy số: 3, 6, 9, 12, ..., ..., ..., 24; 27. Các số thích hợp điền vào chỗ chấm lần lượt là:

A. 13, 16, 19

B. 15, 18, 21

C. 14, 17, 20

D. 16, 19, 22

Câu 5. “500 mm = ... dm”. Số thích hợp điền vào chỗ chấm là:

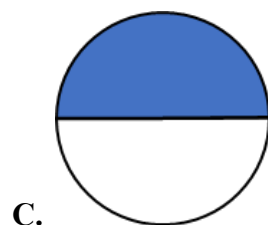
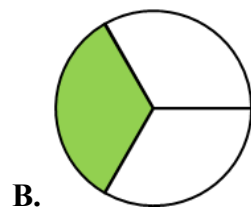
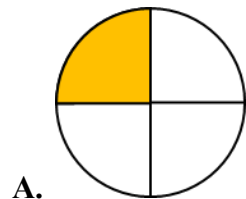
A. 05

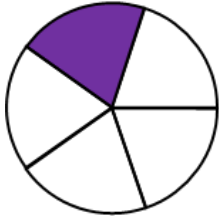
B. 505

C. 50

D. 5

Câu 6. Hình đã được tô màu $\frac{1}{3}$ hình là:





D.

Câu 7. Phép tính nào dưới đây **sai**?

A. $9 \times 2 = 18$

B. $8 \times 6 = 48$

C. $7 \times 8 = 56$

D. $7 \times 6 = 48$

Câu 8. Phép tính nào dưới đây **đúng**?

A. $5 \times 3 = 25$

B. $4 \times 6 = 20$

C. $9 \times 7 = 54$

D. $6 \times 4 = 24$

Câu 9. Phép tính nào dưới đây **sai**?

A. $72 : 8 = 9$

B. $28 : 7 = 3$

C. $42 : 6 = 7$

D. $56 : 8 = 7$

Câu 10.

$$27 : 3 = ? : 7$$

Số thích hợp điền vào chỗ chấm là:

A. 54

B. 56

C. 63

D. 60

Phần II. Tự luận

Câu 1. Đặt tính rồi tính

a) $561 + 230$ b) $405 + 359$

c) $519 + 88$ d) $436 + 46$

e) $846 - 167$ f) $463 - 112$

g) $708 - 75$ h) $694 - 53$

.....

.....

.....

.....

.....

.....

.....

Câu 2. Điền dấu $>$, $<$, $=$ thích hợp vào chỗ chấm

a) $890 - 98$ $256 + 491$

b) $684 - 216$ $168 + 754$

c) $650 + 39$ $513 + 194$

d) $316 + 354 \dots 406 + 264$

e) $864 - 379 \dots 598 - 67$

f) $604 - 78 \dots 780 - 198$

Câu 3. Nối phép tính với kết quả thích hợp

$316 + 201$

$842 - 624$

$204 + 489$

$849 - 356$

493

218

517

693

Câu 4. Một quyển sách có 230 trang. Hoa đã đọc được 84 trang. Hỏi còn lại bao nhiêu trang sách Hoa chưa đọc?

Bài giải

.....
.....
.....

Câu 5. Ngày thứ nhất cửa hàng bán được 415 kg gạo. Ngày thứ hai cửa hàng bán được ít hơn ngày thứ nhất 95 kg gạo.

a) Hỏi ngày thứ hai cửa hàng bán được bao nhiêu ki – lô – gam gạo?

b) Hỏi cả hai ngày cửa hàng bán được bao nhiêu ki – lô – gam gạo?

Bài giải

.....
.....
.....
.....

.....

.....