

**Đề thi Học kì 1 Toán lớp 3**

*(Bộ sách: Chân trời sáng tạo)*

**Câu 1.** Viết vào chỗ trống

a) Số 645 đọc là:

.....

b) Viết số 645 thành tổng các trăm, chục, đơn vị: .....

c) Làm tròn số 645 đến hàng chục thì được số: .....

d) Làm tròn số 645 đến hàng trăm thì được số: .....

**Câu 2.** Khoanh vào chữ cái trước ý trả lời đúng:

6   $7 < 615$

A. 0


B. 1

C. 2

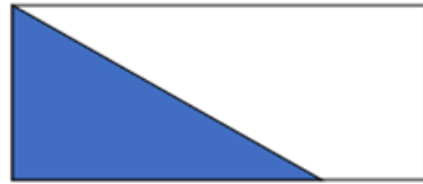
D. 3

**Câu 3.** Khoanh vào chữ cái trước ý trả lời đúng

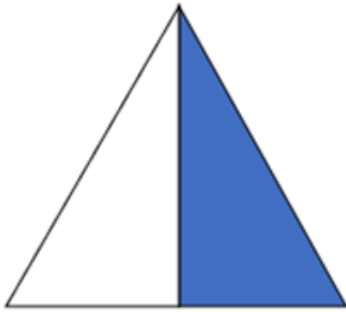
Trong các hình vẽ dưới đây, đã tô màu  $\frac{1}{2}$  hình nào?




Hình 1



Hình 2



Hình 3



Hình 4

- A. Hình 1
- B. Hình 2
- C. Hình 3
- D. Hình 4

**Câu 4.** Khoanh vào chữ cái trước ý trả lời đúng

63 :  = 9

Số thích hợp để điền vào ô trống là:

- A. 7
- B. 8

C. 9

D. 567

**Câu 5.** Đặt tính rồi tính

a)  $241 \times 3$

b)  $513 : 9$

.....

.....

.....

.....

**Câu 6.** Tính giá trị biểu thức:

$210 : 6 \times 5$

.....

.....

.....

.....

**Câu 7.** Nối đồng hồ phù hợp với cách đọc



A. 3 giờ kém 12 phút



B. 3 giờ 18 phút



C. 10 giờ 3 phút

D. 10 giờ 21 phút



**Bài 8. Giải toán**

Cửa hàng thứ nhất có 40kg gạo nếp, Số gạo tẻ của cửa hàng bằng số gạo nếp giảm đi 8 lần. Hỏi cửa hàng có tất cả bao nhiêu ki – lô – gam gạo nếp và gạo tẻ?

.....

.....

.....

.....

**Câu 9. Số?**

Để trang trí các hộp quà, Hà cắt 6m dây thành 8 sợi dây có độ dài bằng nhau. Vậy Hà sẽ cắt được mỗi sợi dây có độ dài là ... cm.



**Câu 10.** Chọn dấu (+, -, ×, :) hoặc dấu ngoặc ( ) vào vị trí thích hợp để biểu thức có giá trị đúng

a)  $8 \bigcirc 4 \bigcirc 2 = 1$

$8 \bigcirc 4 \bigcirc 2 = 4$

b)  $8 \bigcirc 4 \bigcirc 2 = 10$

$8 \bigcirc 4 \bigcirc 2 = 30$