

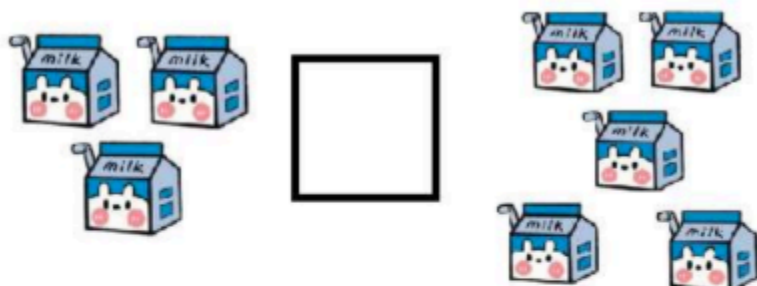


ĐỀ KIỂM TRA GIỮA KÌ I – TOÁN 1 (BỘ KẾT NỐI TRI THỨC)

Câu 1. >; <; =?



Câu 2. Nối phép tính với đáp án thích hợp.

Phép tính
$6 + 2$
$4 + 3$
$5 + 1 + 3$
$2 + 2 + 2$

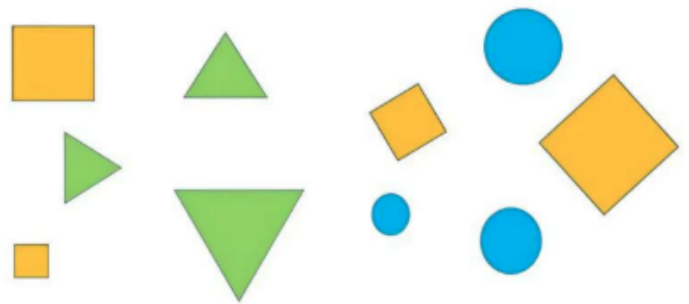
Đáp án
9
8
7
6

Câu 3. Trong hình bên:




Có hình tam giác

Có hình vuông

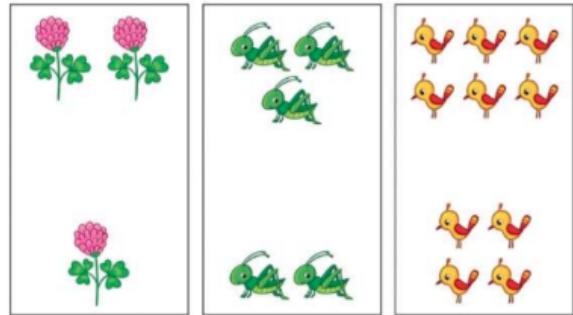
Có hình tròn



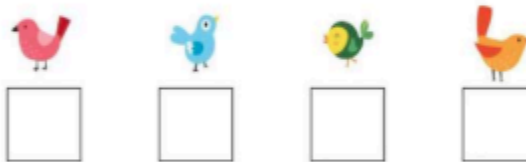
Câu 4. Nối số các con vật với số chính xác tương ứng.



Câu 5. Khoanh tròn vào số lượng ít hơn trong mỗi hình sau:



Câu 6. Điền số thích hợp vào ô trống





Câu 7. Cộng các hình và nối với số đúng.

 +  • • 8

 +  • • 5

 +  • • 2

 +  • • 7