

## ĐỀ KIỂM TRA GIỮA KÌ I – TOÁN 1 (BỘ KẾT NỐI TRI THỨC)

Câu 1. Số?

$$\begin{array}{c} \text{☺} \text{☺} \text{☺} \\ \text{☺} \text{☺} \text{☺} \end{array} + \begin{array}{c} \text{🥕} \text{🥕} \text{🥕} \\ \text{🥕} \text{🥕} \end{array} = \square \quad \begin{array}{c} \text{🥕} \text{🥕} \text{🥕} \\ \text{🥕} \text{🥕} \end{array} + \begin{array}{c} \text{🥕} \text{🥕} \end{array} = \square$$


Câu 2. Trong hình

Có .....vật hình vuông.

Có .....vật hình tròn.



Câu 3. Chọn số thích hợp



**Câu 4. Số?**



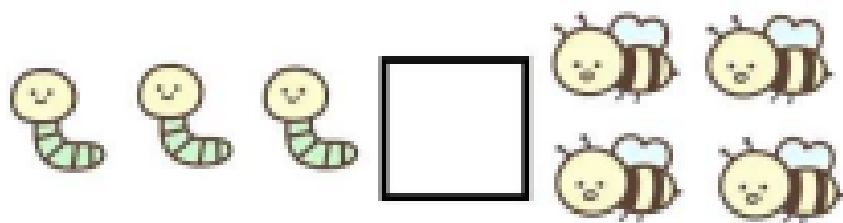
$1 + \dots = 8$

$3 + 6 = \dots$


$\dots + 4 = 8$

$2 + 3 = \dots$


**Câu 5. Điền >, <, =?**



Câu 6. Chọn một số thích hợp trong bạ số.



<




>

Câu 7. Cộng và viết kết quả vào ô trống



+  =



+  =