

ĐỀ KIỂM TRA GIỮA KÌ I – TOÁN 1 (BỘ KẾT NỐI TRI THỨC)

I. Trắc nghiệm. Khoanh tròn vào chữ cái đặt trước câu trả lời đúng.

Câu 1. Số bé nhất trong các số sau là:

- A. 2 B. 3 C. 4 D. 5

Câu 2. Kết quả của phép tính $4 + 5$ là:

- A. 2 B. 7 C. 8 D. 9

Câu 3. Điền > ; < ; =? $3 + 2 \dots\dots 1 + 5$

- A. > B. < C. =

Câu 4. Hình nào có nhiều ngôi sao nhất?



A



B



C



D

A. Hình A


B. Hình B

C. Hình C

D. Hình D

Câu 5. Số?

- A. 8 B. 6
C. 3 D. 2



II. Tự luận

Bài 1. Số?

Số bé nhất có một chữ số là:.....

Số lớn nhất có một chữ số là:.....

Bài 2. Tính.

$3 + 6 = \dots\dots\dots$

$5 + 2 = \dots\dots\dots$

$4 + 2 = \dots\dots\dots$

$1 + 7 = \dots\dots\dots$

Bài 3. Điền >; <; =?

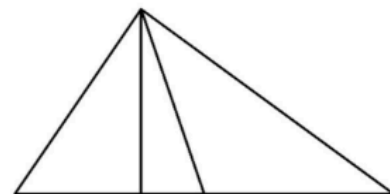
$3 \dots\dots 4$

$5 \dots\dots 7$


$3 + 5 \dots\dots 8$

$4 + 1 \dots\dots 4$


Bài 4. Trong hình bên có tam giác



Bài 5. Khoanh vào số thích hợp.



- 5 6 7 8 9



- 2 3 4 5 6