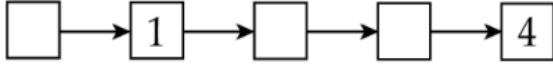


ĐỀ KIỂM TRA GIỮA HỌC KÌ I – BỘ CẢNH ĐIỀU

Bài 1. Số?



Bài 2. Tính

$1 + 3 =$

$3 + 0 =$

$4 + 1 =$

$2 + 4 =$

$2 + 2 =$

$2 + 1 =$

$5 + 0 =$

$3 + 2 =$

Bài 3.

>
<
=

?

$4 + 1 \square 1 + 4$

$2 + 2 \square 5 + 0$

$5 + 0 \square 3 + 1$

$2 + 3 \square 5$

Bài 4. Viết số thích hợp vào ô trống:

$1 + \square = 4$


$5 + \square = 5$

$\square + 3 = 8$

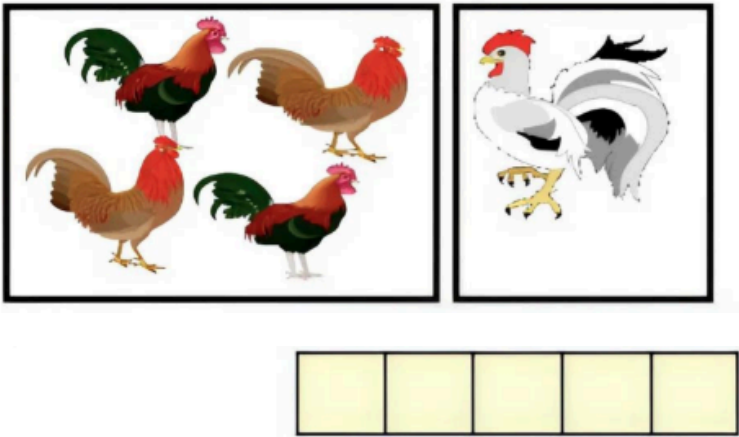
$3 + \square = 9$

Bài 5. Viết phép tính thích hợp:

a)



b)



Bài 6. Hình vẽ bên có mấy hình vuông?

Hình bên có:.....hình vuông.

