


ĐỀ KIỂM TRA GIỮA HỌC KÌ I – BỘ CẢNH ĐIỀU

Bài 1. Nối theo mẫu:



Bài 2. Viết các số 3, 6, 10, 7, 9.

a) Theo thứ tự từ bé đến lớn



b) Theo thứ tự từ lớn đến bé.



Bài 3. Tính:

a) $2 + 2 = \dots$ $3 + 2 = \dots$ $0 + 3 = \dots$ $5 + 1 = \dots$

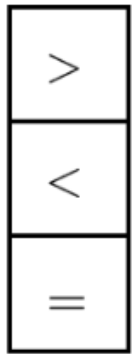
b)

2	4	3	3
+	+	+	+
5	5	1	0
—	—	—	—
.....

c) $2 + 2 + 3 = \dots$

$3 + 2 + 0 = \dots$

Bài 4.



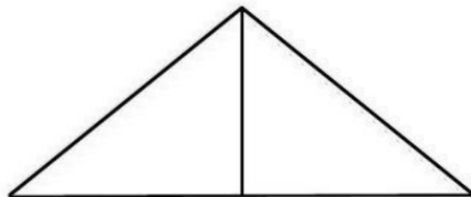
?

$3 + 2 \dots 5$
 $1 + 3 \dots 5$

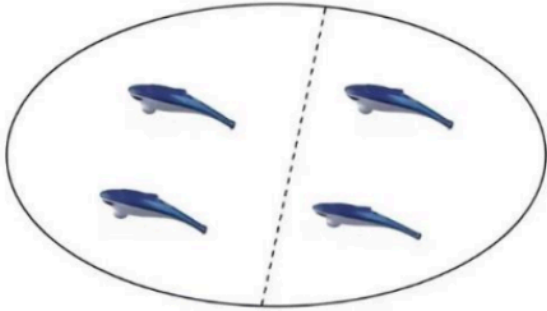
$0 + 3 \dots 2 + 1$
 $1 + 2 \dots 3 + 1$

Bài 5. Hình vẽ bên có mấy hình tam giác?

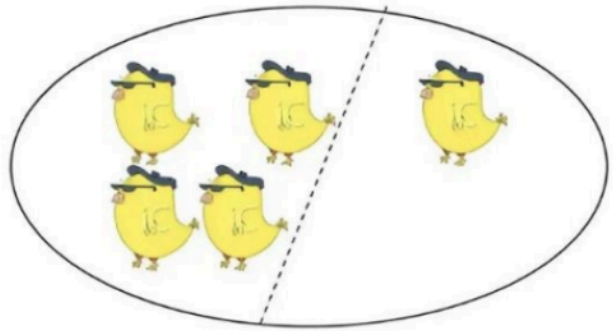
Hình bên có: hình tam giác



Bài 6. Viết phép tính thích hợp:



--	--	--	--	--



--	--	--	--	--