

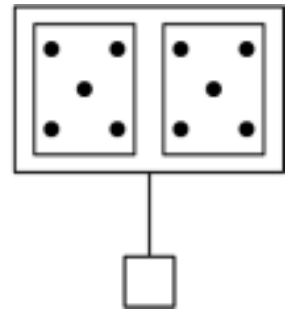
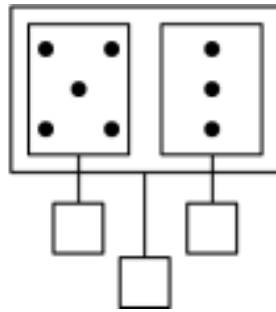
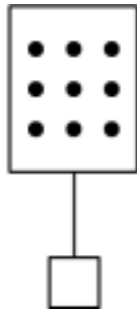
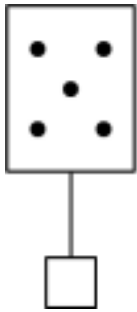
ĐỀ KIỂM TRA GIỮA HỌC KÌ I – BỘ CẢNH ĐIỀU

Bài 1. Viết số thích hợp vào ô trống:

0			3			6		8		
---	--	--	---	--	--	---	--	---	--	--

	9				5				1	
--	---	--	--	--	---	--	--	--	---	--

Bài 2. Số?



Bài 3.

>
<
=

?

$10 \square 4$

$3 \square 5$

$1 \square 8$

$5 \square 9$

$5 \square 1$

$8 \square 9$

$10 \square 10$

$7 \square 2$

$2 + 2 \square 1 + 4$

Bài 4. \square ?

$2 + 2 = \square$

$4 + 2 = \square$

$3 + 2 = \square$

$\square + 2 = 5$

$2 = \square + 1$

$3 = 2 + \square$

Bài 5. Tính:

$$\begin{array}{r} 2 \\ + \\ 3 \\ \hline \dots \end{array}$$

$$\begin{array}{r} 4 \\ + \\ 0 \\ \hline \dots \end{array}$$

$$\begin{array}{r} 3 \\ + \\ 1 \\ \hline \dots \end{array}$$

$$\begin{array}{r} 3 \\ + \\ 2 \\ \hline \dots \end{array}$$

Bài 6. Hình vẽ bên có mấy hình tam giác?

Có ... hình tam giác.

