





ĐỀ KIỂM TRA GIỮA KÌ I TOÁN 1

(Bộ sách Chân trời sáng tạo)










Câu 1. Điền số thích hợp vào chỗ chấm (theo mẫu):

| Số | Phép tính |
|------------|--|
| 8; 5; 3; 2 | $3 + 5 = 8;$ $2 + 3 + 3 = 8.$ |
| 5; 4; 1; 3 | $\dots + \dots = 5;$ $3 + \dots + \dots = 5.$ |
| 2; 4; 6; 8 | $\dots + \dots = 8;$ $\dots + \dots + \dots = 8.$ |


Câu 2. Điền dấu $<$; $>$; $=$ thích hợp vào chỗ chấm

| | |
|--|---|
|  <input type="text"/> < = > |  <input type="text"/> < = > |
|  <input type="text"/> < = > |  <input type="text"/> < = > |

Câu 3. Số?

| | | |
|---|---|--|
|  $2 + 2 = 4$ |  $_ + _ = _$ |  $_ + _ = _$ |
|  $_ + _ = _$ |  $_ + _ = _$ |  $_ + _ = _$ |
|  $_ + _ = _$ |  $_ + _ = _$ |  $_ + _ = _$ |

Câu 4. Trong hình dưới đây



Có ... khối hộp chữ nhật.

Có ... khối lập phương.

Câu 5. Tô màu vào các đồ vật theo hướng dẫn:

- Vật có dạng hình vuông tô màu đỏ.
- Vật có dạng hình tròn tô màu xanh.
- Vật có dạng hình tam giác tô màu vàng.
- Vật có dạng hình chữ nhật tô màu tím.

