

ĐỀ KIỂM TRA GIỮA KÌ I TOÁN 1

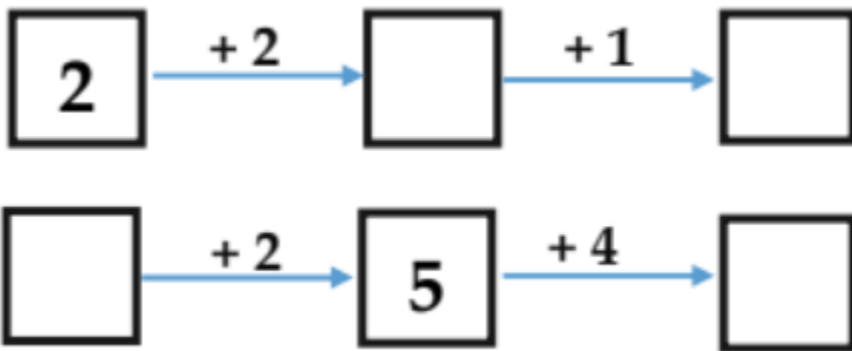
(Bộ sách Chân trời sáng tạo)

Câu 1. Số?


Số lớn nhất có một chữ số là ...

Số bé nhất có một chữ số là ...


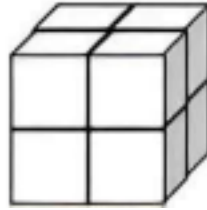
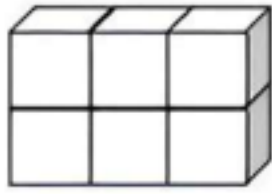
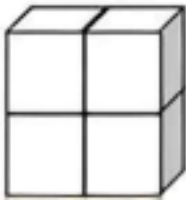
Câu 2. Số?



Câu 3. Điền dấu >; <; =



Câu 4. Hình nào dưới đây là khối lập phương? Hãy khoanh tròn và tô màu vào hình đó.



Câu 5. Số?

Hình dưới đây:

Có ... hình chữ nhật; có ... hình tam giác;

Có ... hình tròn; có ... hình vuông.

