


A. Thứ 6 ngày 15 tháng 8 năm 2021

B. Thứ 6 ngày 16 tháng 8 năm 2021

C. Thứ 6 ngày 18 tháng 8 năm 2021

D. Thứ 6 ngày 19 tháng 8 năm 2021

**Câu 4:** Với các số sau: Em hãy lập các số có 2 chữ số.



**Câu 5:** (1 điểm) : Đúng ghi Đ.sai ghi S

$$71 \text{ cm} + 25 \text{ cm} = 96 \text{ cm} \quad \square$$

$$17 \text{ cm} - 6 \text{ cm} = 12 \text{ cm} \quad \square$$

$$23 \text{ cm} + 12 \text{ cm} = 35 \quad \square$$

$$94 \text{ cm} - 91 \text{ cm} = 3 \text{ cm} \quad \square$$

**Câu 6:** (1 điểm) Trên dây phơi mẹ có treo 23 chiếc áo và quần, trong đó số áo là 10 cái .Vậy hỏi số quần sẽ là bao nhiêu cái?

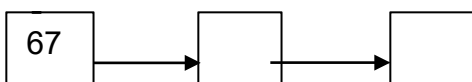
A.10 cái quần

B. 33 cái quần

C. 24 cái quần

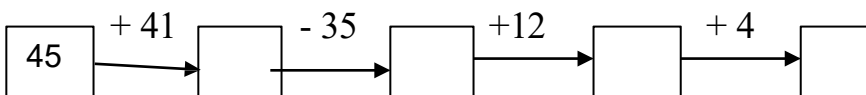
D.13 cái quần

**Câu 7:** ( 1 điểm) Điền Số?


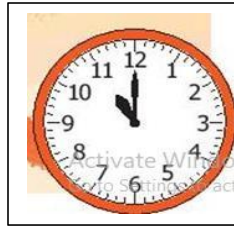


-7


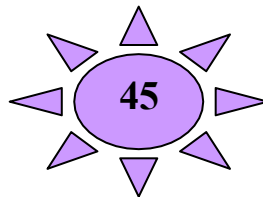
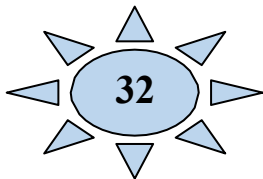
- 20



**Câu 8:** ( 1 điểm ) Nói đúng thời gian làm việc của bạn Nam.



**Câu 9:** (1 điểm) Nói (theo mẫu:  $26 + 62$  với  $88$ )



$67 - 21$

$34 + 44$

$78 - 35$

$21 + 11$

**Câu 10:** ( 1 điểm) Số?

Có.....hình vuông

Có.....hình tam giác

Có.....hình tròn

