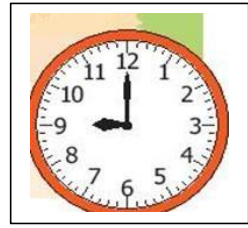
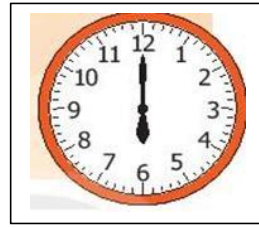
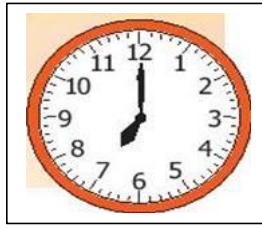



**Câu 4: (1 điểm) Đồng hồ chỉ mấy giờ?**



.....

**Câu 5: (1 điểm) Với các số 48, 13, 35.Em hãy lập các phép tính cộng,trừ phù hợp**

--	--	--	--	--

--	--	--	--	--

--	--	--	--	--

--	--	--	--	--

**Câu 6: (1 điểm) Dòng nào sau đây, viết đúng theo thứ tự từ bé đến lớn.**

A. 3, 4, 5, 1,12, 22, 8

B. 23, 25, 27, 28, 29, 31

C. 34, 35, 23, 37, 89,100

**Câu 7: (1 điểm) Quan sát lịch học của bạn My trong 1 tuần và viết tiếp vào chỗ chấm**

Thứ hai	Thứ ba	Thứ tư	Thứ năm	Thứ sáu	Thứ 7	Chủ nhật
Tiếng Việt	Nhạc	Thể dục	Tiếng Việt	Mĩ thuật	Nghỉ	Nghỉ
Toán	Đạo đức	Tiếng Việt	Toán	TNXH	Nghỉ	Nghỉ

+ Bạn My đi học vào những ngày nào? .....

+ Bạn My học Tiếng Việt vào những ngày nào trong tuần?.....

+ Thứ sáu bạn My học những môn gì?.....

+Hôm qua bạn My học Nhạc với Đạo đức thì hôm nay bạn My sẽ học những môn gì?.....

**Câu 8: (1 điểm) Đánh dấu nhân vào các phép tính có kết quả lớn hơn 32**

78 - 34
---------

89 - 34
---------

23 + 2
--------

90 - 60
---------

12 + 53
---------

45 - 10
---------

--

--

--

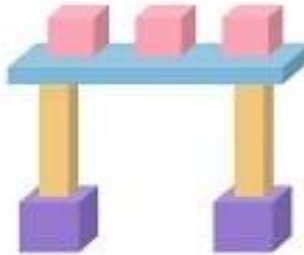
--

--

--

**Câu 9: (1 điểm) Mẹ mua cho An 45 cái kẹo. An cho bạn Mai mất đi 15 cái kẹo. Hỏi số kẹo còn lại của An là:**

- A. Bằng số kẹo của Mai
- B. Nhiều hơn số kẹo của Mai
- C. Ít hơn số kẹo của Mai



**Câu 10: (1 điểm)** Có .....khối lập phương  
Có.....khối hộp chữ nhật

**BÀI KIỂM TRA NĂM HỌC: 2020 - 2021**  
**MÔN TOÁN - LỚP 1**  
Thời gian làm bài: 50 phút

**ĐỀ 19**

**Câu 1: ( 1 điểm)** Khoanh tròn vào đáp án trả lời đúng:

a. Số lớn nhất có 2 chữ số là :

- A. 23
- B. 99
- C. 89
- D. 100

b. Điền dấu :  $89 \dots\dots\dots 54 + 21$

- A. >
- B. <
- C. +
- D. =

**Câu 2: Số ? ( 1 điểm)**

$$78 - 12 = \dots\dots\dots$$

$$20 + 45 = \dots\dots\dots$$

$$34 + \dots\dots\dots = 47$$

$$\dots\dots\dots - 6 = 60$$

**Câu 3: ( 1 điểm )** Thứ 4 ngày 17 tháng 8 năm 2021. Vậy thì thứ 6 sẽ là ngày - tháng – năm nào ?