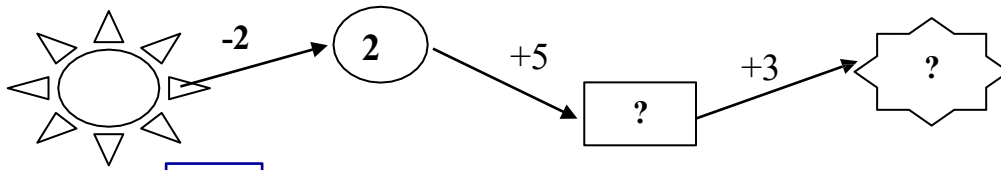


**Câu 7:** (1 điểm)


Số?




Số?

**Câu 8:** (1 điểm)

a)



b)

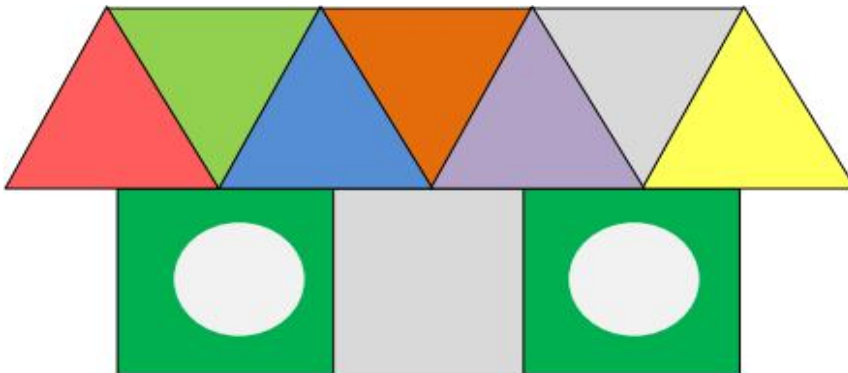


**Câu 9:** (1 điểm) Quan sát tranh rồi viết phép tính thích hợp



--	--	--	--	--

**Câu 10:** (1 điểm) Khoanh tròn vào câu trả lời đúng ?



A. 7  và 3 

B. 6  và 2 

C. 8  và 3 

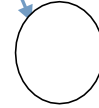

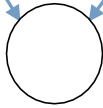

BÀI KIỂM TRA NĂM HỌC: 2021 - 2022

MÔN TOÁN - LỚP 1

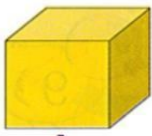
Thời gian làm bài: 50 phút

ĐỀ 17

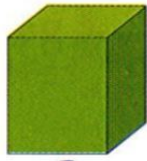
Câu 1: ( 1 điểm ) (M1) Số?



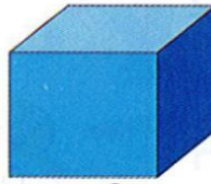
Câu 2: ( 1 điểm ) (M2) Quan sát hình



A



B



C



D



E



G

-Những hình nào là khối lập phương : .....

Câu 3. ( 1 điểm ) (M1) Dãy số nào sau đây sắp xếp theo thứ tự từ bé đến lớn

A. 3, 0, 1, 8

B. 1, 3, 8, 0

C. 0, 1, 3, 8

Câu 4: ( 1 điểm ) (M3) Từ ba số 3, 5, 8 em hãy viết ba phép tính trừ:

--	--	--	--	--

--	--	--	--	--

--	--	--	--	--

Câu 5: ( 1 điểm ) (M1) Nói các phép tính có kết quả bằng nhau?