

**Câu 8:** (1 điểm) Số?

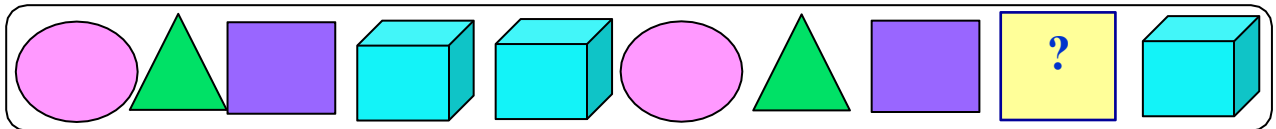



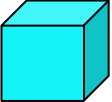


**Câu 9:** (1 điểm) Quan sát tranh rồi viết phép tính thích hợp để trả lời câu hỏi: “Có tất cả bao nhiêu con vịt?”



--	--	--	--	--

**Câu 10:** (1 điểm) Hình thích hợp đặt vào dấu chấm hỏi là hình nào?



- A.  B.  C.  D. 

ĐỀ 17

**Câu 1:** (1 điểm) Số?



...
-----

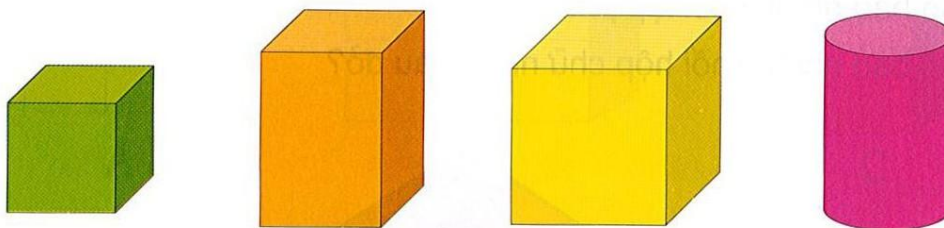


...
-----



...
-----

**Câu 2:** (1 điểm) Có mấy khối lập phương?



- A. 3 B. 4 C. 2 D. 1

**Câu 3:** (1điểm)

>	<	=
---	---	---

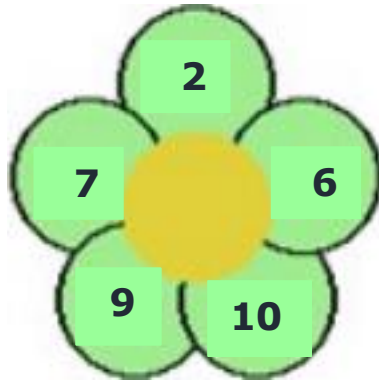
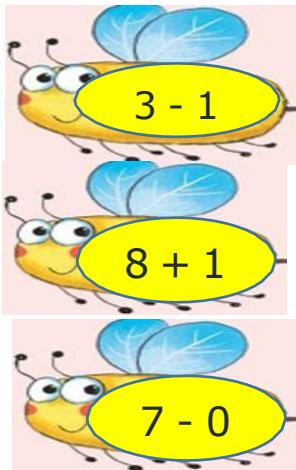
$$5 - 2 \dots 6$$

$$6 + 1 \dots 4 + 3$$

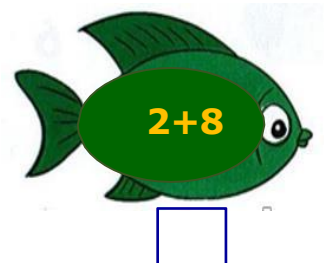
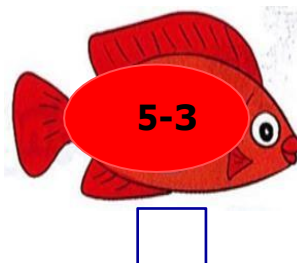
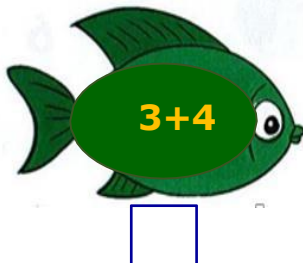

$$2 + 2 \dots 5$$

$$7 - 0 \dots 10 - 1$$

**Câu 4:** (1điểm) Nối kết quả với phép tính đúng để tìm cánh hoa cho mỗi c



**Câu 5:** (1điểm) Đánh dấu nhân vào ô trống ở con cá ghi phép tính có kết quả lớn nhất



**Câu 6:** (1điểm) Số?

$$4 + 2 = \square$$

$$5 - 5 = \square$$

$$5 + 5 = \square$$

$$5 - 0 = \square$$

$$3 + 6 = \square$$

$$10 - 3 = \square$$

**Câu 7:** (1điểm)