


BÀI KIỂM TRA NĂM HỌC: 2021 - 2022
MÔN TOÁN - LỚP 1
 Thời gian làm bài: 50 phút


ĐỀ 16

Câu 1: (1điểm) Số?

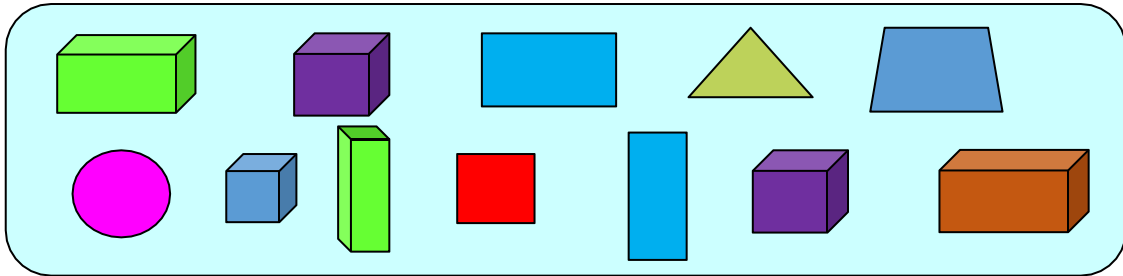








Câu 2: (1điểm) Có mấy hình ?



A. 1

B. 2

C. 3

D. 4

Câu 3: (1điểm) > < =

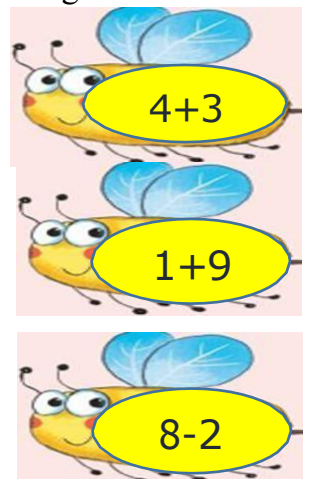
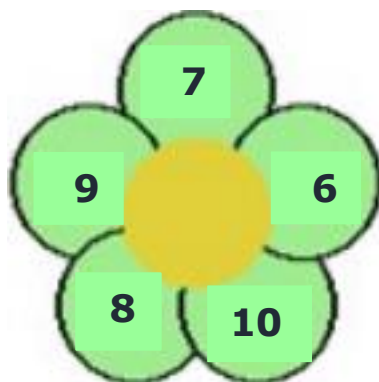
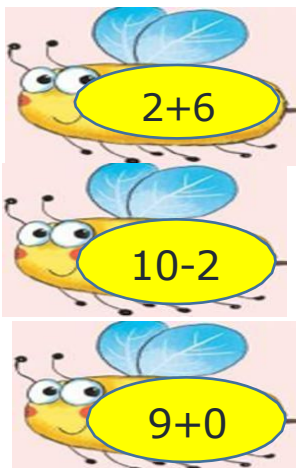
$9 - 2 \dots 6$

$10 \dots 6 + 3$


$5 + 2 \dots 7$

$8 + 0 \dots 8 - 1$


Câu 4: (1điểm) Nối kết quả với phép tính đúng để tìm cánh hoa cho mỗi chú ong.



Câu 5: (1 điểm) Đánh dấu nhân vào ô trống ở mỗi con cá ghi phép tính có kết quả lớn hơn 5.



Câu 5: (1 điểm) Đánh dấu nhân vào ô trống ở mỗi phép tính có kết quả lớn hơn 5.



Câu 6: (1 điểm) Số?

$3 + 6 = \square$

$4 - 0 = \square$


$4 + 5 = \square$

$7 - 1 = \square$

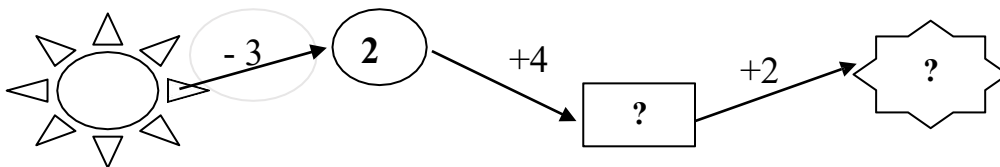
$2 + 8 = \square$

$10 - 4 = \square$

Câu 7: (1 điểm) Số?



Câu 7: (1 điểm) Số?



Câu 8: (1 điểm) Số?

