

Câu 10: Từ 3 số: 2; 7; 9, hãy lập các phép tính đúng trong phạm vi 10

.....
.....


ĐỀ KIỂM TRA ĐỊNH KÌ CUỐI HỌC KÌ 1 NĂM HỌC 2021 – 2022

Môn: Toán

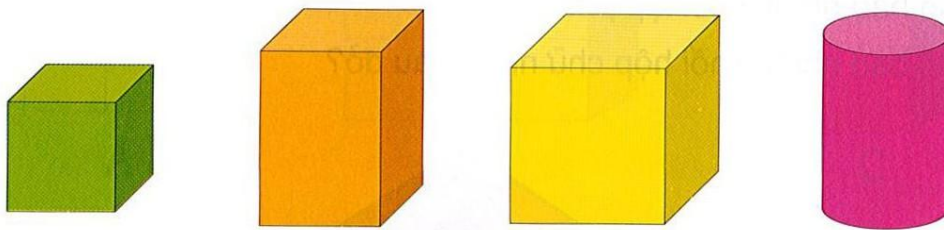
Thời gian: 60 phút (không kể thời gian giao đề)

ĐỀ 15

Câu 1: (1điểm)



Câu 2: (1điểm) Có mấy khối lập phương?



A.3

B.4

C.2

D.1

Câu 3: Điền > < = (1điểm)



$2 + 5$ □ $3 + 4$

$6 - 4$ □ $0 - 5$

9 □ $8 + 1$

$8 - 0$ □ $8 + 0$

Câu 4: (1điểm) Nói – đúng ?

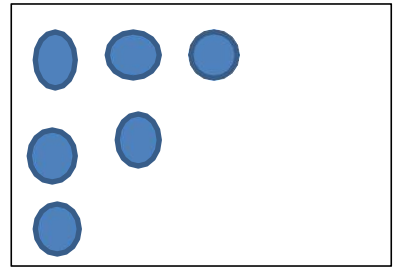
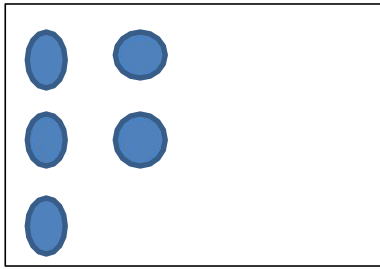


$$9 - 3 = 6$$

$$6 + 1 = 7$$

$$4 + 4 = 8$$

Câu 5: Vẽ thêm các hình tròn để mỗi ô vuông có kết quả bằng 10



Câu 6: (1 điểm) Tính .

$8 + 1 - 3 = \dots\dots\dots$

$7 - 1 - 1 = \dots\dots\dots$

$2 + 2 + 2 = \dots\dots\dots$

$8 - 0 + 2 = \dots\dots\dots$

Câu 7: Từ số 0 đến số 10 có tất cả mấy số ?

A. 6 số

B. 7 số


C. 5 số

Câu 8: (1 điểm)Viết các số 2, 5, 1, 8, 3

a) Theo thứ tự từ bé đến lớn.....

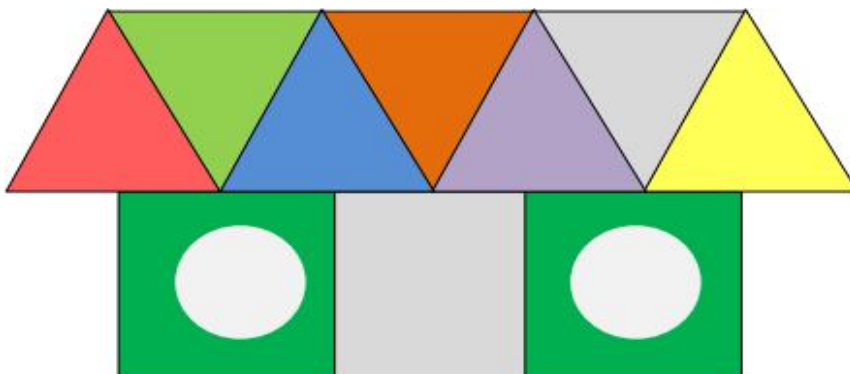
b) Theo thứ tự từ lớn đến bé.....

Câu 9: (1 điểm) Quan sát tranh rồi viết phép tính thích hợp



--	--	--	--	--

Câu 10: (1 điểm) Khoanh tròn vào câu trả lời đúng ?



A. 7  và 3 

B. 6  và 2 

C. 8  