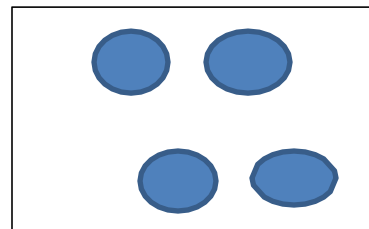
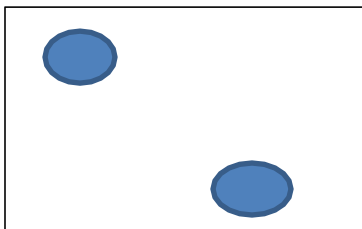
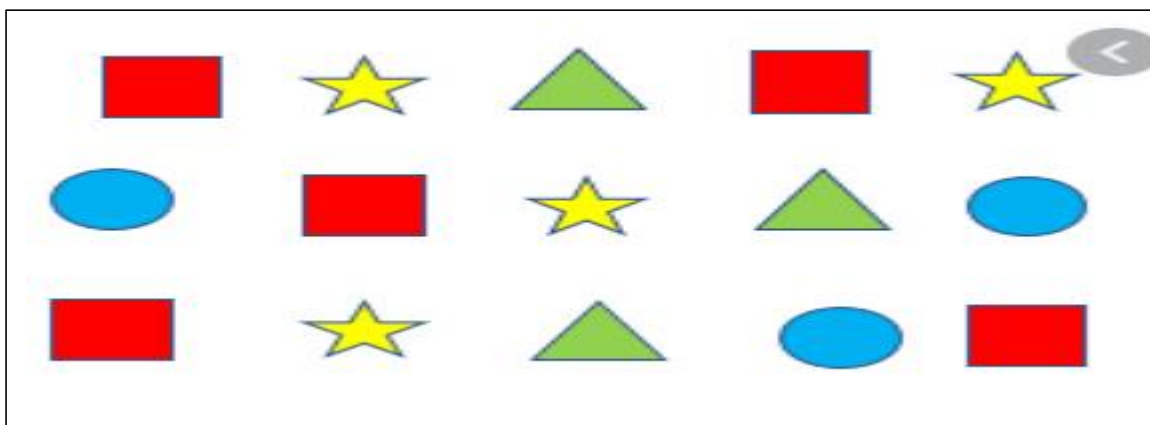


ĐỀ 14

Câu 1: Vẽ tiếp để mỗi ô trống có kết quả bằng 5



Câu 2: Em hãy dùng bút chì và khoanh tròn vào các hình chữ nhật



Câu 3: Tính

$7 + 3 = \dots\dots$

$1 + 6 = \dots\dots$





$3 + 3 = \dots\dots$

$8 - 5 = \dots\dots$

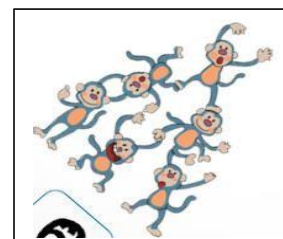
$7 - 2 = \dots\dots$

$10 - 6 = \dots\dots$

Câu 4: Đánh số thứ tự từ bé đến lớn



Câu 5: Điền < > =



Câu 6. Viết dấu <, >, = vào chỗ chấm.

$1 + 1 + \dots = 5$

$7 + 3 = \dots$

$9 - 2 - 1 = \dots$

$6 - 1 + \dots = 5$

Câu 7: Quan sát tranh và làm theo yêu cầu



Đúng ghi **D**, sai ghi **S**


A. Số con vịt nhiều hơn số con thỏ

B. Số con vịt ít hơn số con thỏ

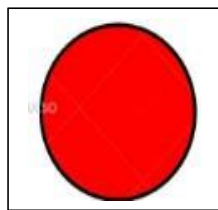
C. Số cái cây nhiều hơn số đám mây

D. Số đám mây ít hơn số cái cây

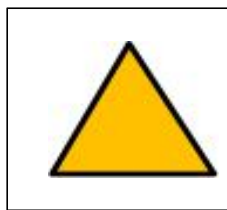
Câu 8: Em hãy khoanh tròn vào các hình tròn




A




B



C



D



E

Câu 9: Số lớn nhất có 1 chữ số là

Số bé nhất có 1 chữ số là:

Số đứng giữa số 3 và số 5 là: