




**Câu 2:** Nối đúng.



Hình chữ nhật

Hình tam giác

Hình vuông

Hình tròn

**Câu 3:** Tính .

$1 + \dots = 9$

$\dots + 1 = 7$

$6 + \dots = 10$

$\dots + 8 = 8$

$3 + \dots = 10$

$\dots + 2 = 7$

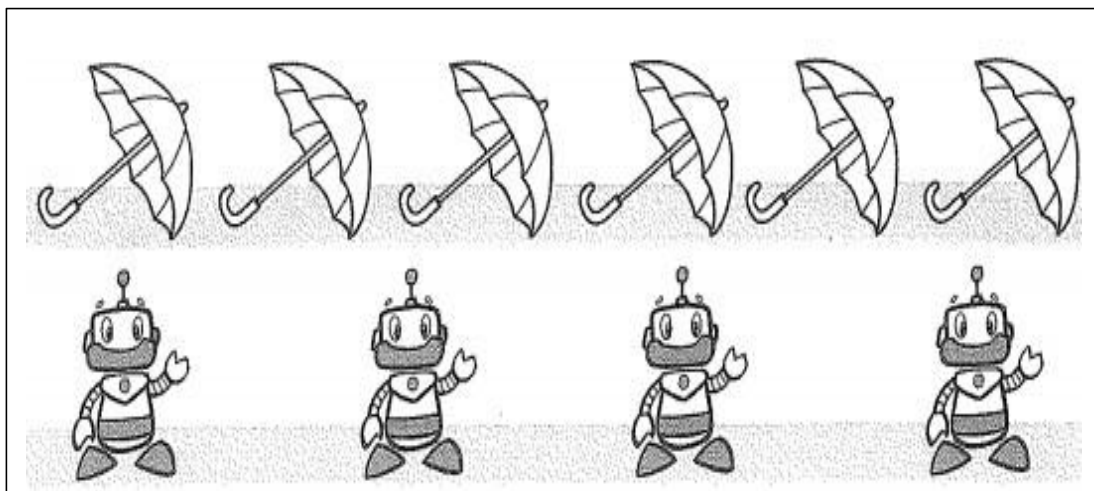
**Câu 4.** Khoanh vào số nhỏ nhất trong các câu sau:

A. 1, 4, 7, 0, 9

B. 3, 8, 9, 4, 7

C. 8, 4, 10, 7, 5

**Câu 5:** Đúng ghi Đ, sai ghi S





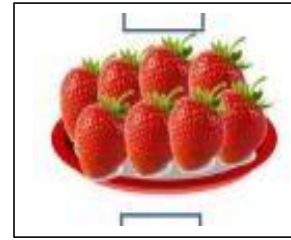

+ Số cái ô là 7 chiếc

+ Số Rô Bốt là 4 bạn

+ Số cái ô ít hơn số bạn Rô –bốt

+ Số cái ô và số Rô Bốt là 10

**Câu 6:** Điền < > =



**Câu 7:** Cho các số 0; 1; 2; 3; 4; 5; 6; 7; 8.

Em hãy viết các phép tính cộng có kết quả bằng 8.

.....

.....

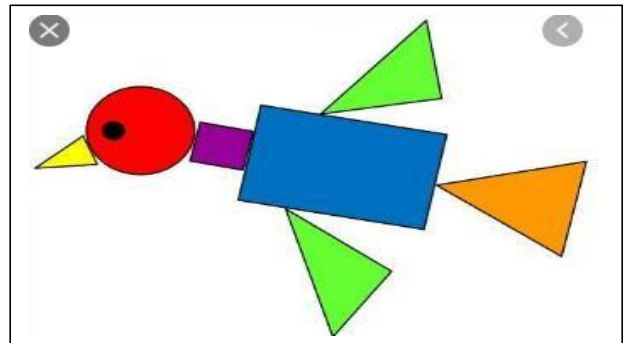
.....

**Câu 8:** Quan sát hình và cho biết

Có..... hình chữ nhật

Có..... hình tam giác

Có..... hình tròn



**Câu 9:** Từ 0 đến 10 có mấy số bé hơn 6 ?

A. 5 số

B. 6 số

C. 4 số

**Câu 10:** Quan sát và viết phép tính tích hợp

Có

Có

Có tất cả..... bông hoa