

Họ và tên:.....

Thứ..... ngày..... tháng.....năm

Lớp


Nhận xét của giáo viên


.....


.....

I. Trắc nghiệm (5 điểm)

Câu 1. (MĐ1). Đánh dấu X vào  đặt trước cách viết đúng: (1 điểm)
Các số từ 0 đến 10 theo thứ tự từ bé đến lớn là:

 0; 1; 3; 2; 4; 5; 6; 7; 8; 9; 10

 1; 0; 2; 3; 4; 5; 6; 7; 8; 9; 10

 0; 1; 2; 3; 4; 5; 6; 7; 8; 9; 10

Câu 2. (MĐ1). Nối với số chỉ kết quả tương ứng: (1 điểm)

7 + 3 = **4**

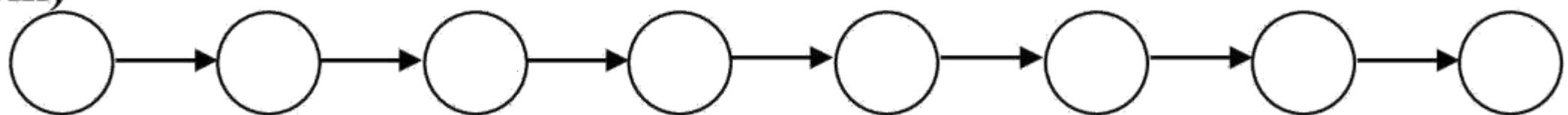
10 - 6 = **10**

1 + 9 = **7**

10 - 3 =

Câu 3. (MĐ2). Viết các số 6; 5; 0; 2; 10; 7; 4; 3 theo thứ tự từ bé → lớn.

(1 điểm)



Câu 4 : (MĐ1). Đúng ghi “Đ”, sai ghi “S” vào ô trống. (1 điểm)

2 + 3 > 5

7 = 7

5 + 0 = 5

3 < 1

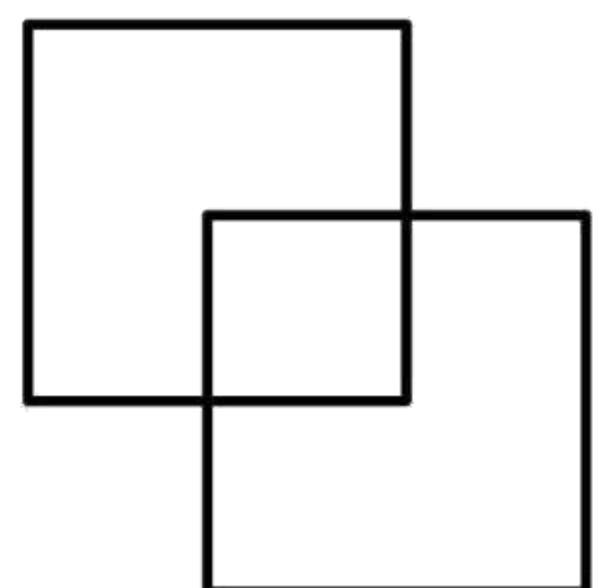
Câu 5. (MĐ2). Có hình vuông ? (1 điểm)

A. 2

B. 3

C. 4

D. 5



II. Tự luận

Câu 1. (MĐ1). Tính (1điểm)

$10 - 4 + 3 = \dots\dots$

$10 - 5 + 2 = \dots\dots$

$10 + 0 - 4 = \dots\dots$

$6 + 2 - 3 = \dots\dots$

$7 - 4 + 6 = \dots\dots$

$8 - 3 + 3 = \dots\dots$

Câu 2. (MĐ2). Số? (1 điểm)

$7 + \dots\dots = 7$

$\dots\dots - 2 = 5$

$7 - \dots\dots = 1$

$\dots\dots + 2 = 8$

$6 - 1 = \dots\dots$

$7 - \dots\dots = 6$

Câu 3. (MĐ2). Điền dấu $<$, $>$, $=$ vào chỗ chấm ? (1 điểm)



$0 \dots 10 - 9$

$10 - 4 \dots 3 + 2$

$2 \dots 7 - 5$

$9 - 7 \dots 1 + 3$

Câu 4. (MĐ3). Mỗi biển báo giao thông dưới đây có hình dạng gì?(1 điểm)



Hình

Hình

Hình

Hình

Câu 5. (MĐ3). Đố? (1 điểm)

Ba bạn Trương, Quang, Ngọc cùng ngồi một bàn học. Bạn Quang ngồi ở bên phải bạn Ngọc, bạn Ngọc ngồi ở bên phải bạn Trương. Hỏi bạn nào ngồi giữa hai bạn còn lại. Em hãy viết tên bạn ngồi giữa vào ô trống.



.....