

**ĐỀ 7****KIỂM TRA HỌC KÌ I MÔN TOÁN**

Họ và tên:.....

Thứ..... ngày..... tháng.....năm .....

**Lớp****Nhận xét của giáo viên**

.....

.....

**I. Trắc nghiệm (5 điểm)****Câu 1. (MĐ1). Viết các số: (1 điểm)**

a) Từ 4 đến 10 .....


b) Từ 10 đến 1 .....


**Câu 2. (MĐ1). Đánh dấu X vào  đặt trước cách viết đúng:**


$7 - 3 > 5$


$7 - 3 < 5$


$7 - 3 = 5$

**Câu 3. (MĐ1). Đúng ghi Đ, sai ghi S vào  (1 điểm)**

$7 - 1 - 3 = 3$  

$4 + 1 + 2 = 7$  

$7 - 4 - 2 = 2$  

$5 + 0 - 2 = 7$  

**Câu 4. (MĐ2). Nối  với số thích hợp: (1 điểm)**

$7 + \square = 8$

$6 + \square = 8$

$\square + 3 = 8$



$8 - \square = 3$

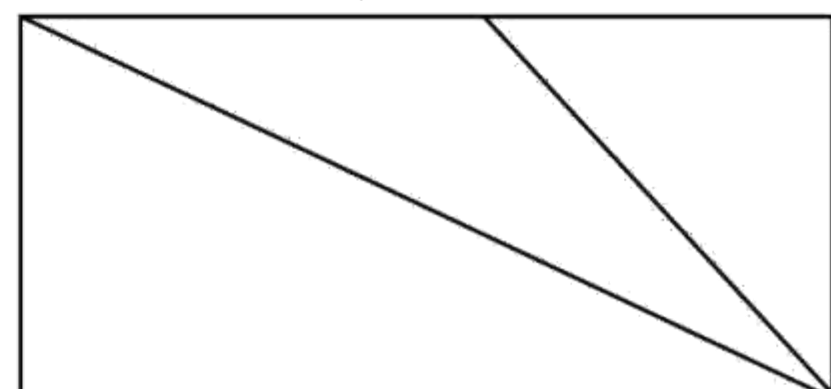
$8 - \square = 6$

$8 - \square = 7$

**Câu 5. (MĐ1). Đúng ghi Đ, sai ghi S vào chỗ chấm (1 điểm)**

Hình bên có 1 hình chữ nhật. ....

Hình bên có 3 hình tam giác. ....



## II. Tự luận (5 điểm)

### Câu 1. (MĐ1). Tính (1 điểm)

$$\begin{aligned}7 + 2 &= \dots \\9 - 0 &= \dots \\0 + 9 &= \dots\end{aligned}$$

$$\begin{aligned}9 - 4 &= \dots \\8 - 3 &= \dots \\2 + 3 &= \dots\end{aligned}$$

$$\begin{aligned}8 - 7 &= \dots \\10 - 6 &= \dots \\5 - 3 &= \dots\end{aligned}$$

### Câu 2. (MĐ2). Điền số thích hợp (1 điểm)

5

	0	1	2	3	4	5
+	5					

### Câu 3. (MĐ2). Điền dấu <, >, = vào chỗ chấm ? (1 điểm)


$7 - 4 \dots\dots\dots 5 - 0$

$4 - 0 \dots\dots\dots 5 - 1$

$9 + 1 \dots\dots\dots 5 + 4$

$5 - 2 \dots\dots\dots 4 - 2$

### Câu 4. (MĐ3). Viết phép tính thích hợp (1 điểm)



### Câu 5. (MĐ3). Điền mỗi số 1; 2; 6 vào một hình tam giác để cộng 3 số trên 3 hình tam giác liền nhau nào cũng bằng 9 (1 điểm)

