

ĐỀ 5

KIỂM TRA HỌC KÌ I MÔN TOÁN

Họ và tên:.....

Thứ..... ngày..... thángnăm

Lớp




Nhận xét của giáo viên

.....

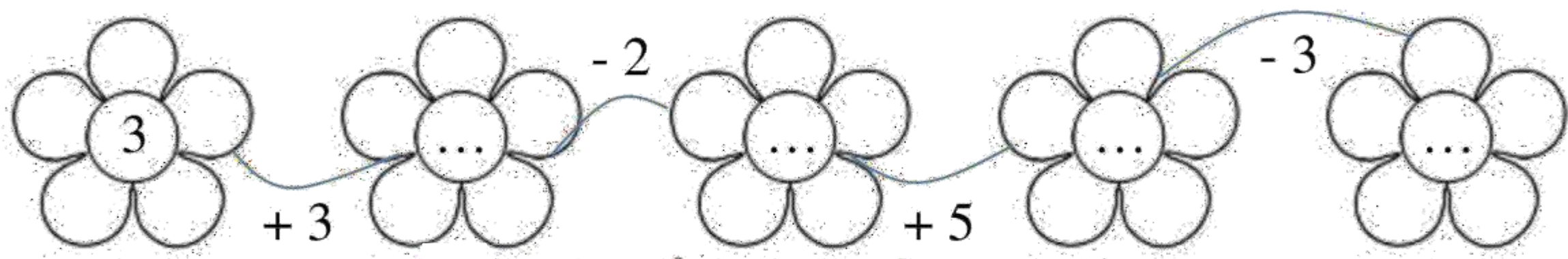
.....

I. Trắc nghiệm (5 điểm)


Câu 1. (MĐ1). Đúng ghi Đ, sai ghi S vào  (1 điểm)

$4 + 3 + 3 = 9$ 
 $3 + 6 + 1 = 10$ 
 $9 - 6 + 7 = 10$ 

Câu 2. (MĐ1). Điền số thích hợp vào ô trống (1 điểm)



Câu 3. (MĐ2). Nối phép tính với ô trống thích hợp (theo mẫu) (1 điểm)

$8 - 6$ $6 - 2$	$8 + 1$	$7 + 2$
 <div style="display: inline-block; border: 1px solid black; width: 40px; height: 40px; display: flex; align-items: center; justify-content: center;"> □ </div> < 5 < <div style="display: inline-block; border: 1px solid black; width: 40px; height: 40px; display: flex; align-items: center; justify-content: center;"> □ </div>			
$8 - 4$ $3 + 2$	$4 + 4$	$9 - 3$

Câu 4. (MĐ2). Viết các số: 8; 3; 1; 10; 5. (1 điểm)

a, Theo thứ tự từ bé đến lớn:

b, Theo thứ tự từ lớn đến bé:

Câu 5. (MĐ2). $+$ $-$? (1 điểm)

4 □ $2 = 6$
 6 □ 3 □ $3 = 0$
 6 □ $2 = 4$
 1 □ 5 □ $2 = 4$

II. Tự luận

Câu 1. (MĐ1). Tính (1 điểm)

$$9 - 1 = \dots$$

$$6 + 2 = \dots$$

$$7 + 1 = \dots$$

$$9 - 5 = \dots$$

$$7 - 3 = \dots$$

$$6 - 2 = \dots$$

$$9 - 7 = \dots$$

$$8 - 6 = \dots$$

$$5 - 3 = \dots$$

Câu 2. (MĐ2). Số? (1 điểm)

$$9 = \dots + 4$$

$$3 + \dots > 9 - 1$$

$$3 + 6 < 7 + \dots$$

$$10 = 7 + \dots$$

$$10 - 4 < 7 - \dots$$


$$\dots - 5 > 3 + 1$$

$$9 = 10 - \dots$$

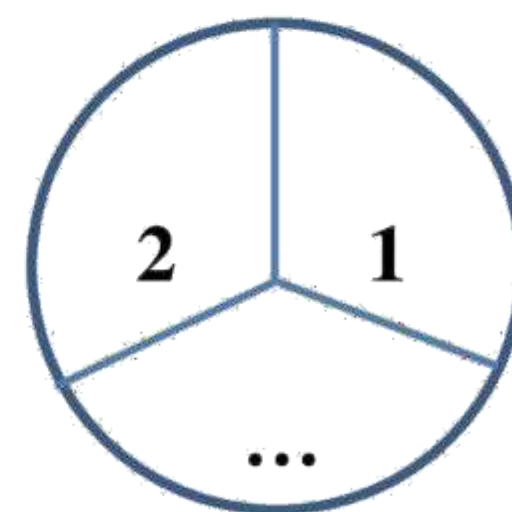
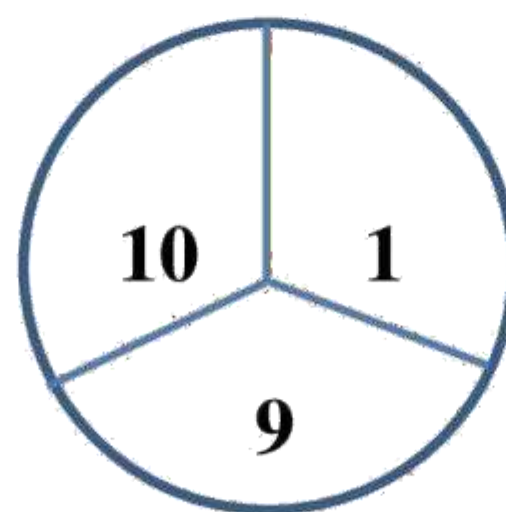
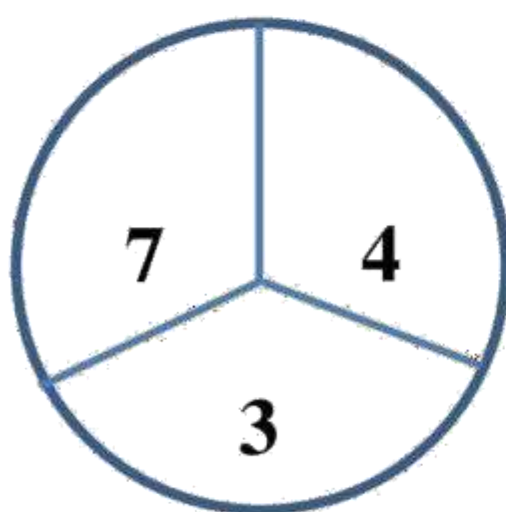
$$8 - \dots = 9 - 1$$

$$7 - \dots = 8 - 2$$

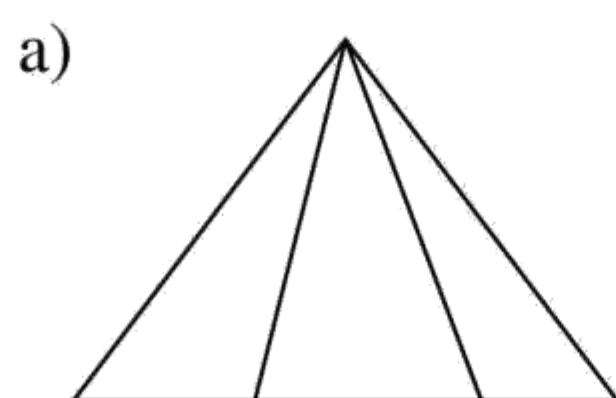
Câu 3. (MĐ3). Viết 1 phép tính cộng, 1 phép tính trừ thích hợp; (1 điểm)



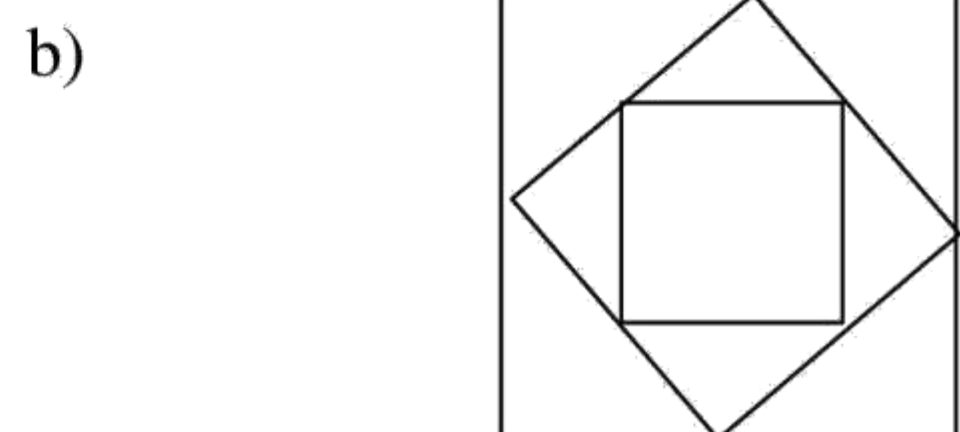
Câu 4. (MĐ3). Điền số thích hợp (1 điểm)



Câu 5. (MĐ2). Trong hình dưới đây: (1 điểm)



Có..... hình tam giác



Có..... hình vuông