

**ĐỀ 4****KIỂM TRA HỌC KÌ I MÔN TOÁN**

Họ và tên:.....

Thứ..... ngày..... tháng.....năm.....

Lớp

**Nhận xét của giáo viên**

.....

.....

**I. Trắc nghiệm (5 điểm)****Câu 1. (MĐ1). Đúng ghi Đ, sai ghi S vào  (1 điểm)**

$3 + 5 - 7 = 1$

$7 + 2 - 3 = 4$

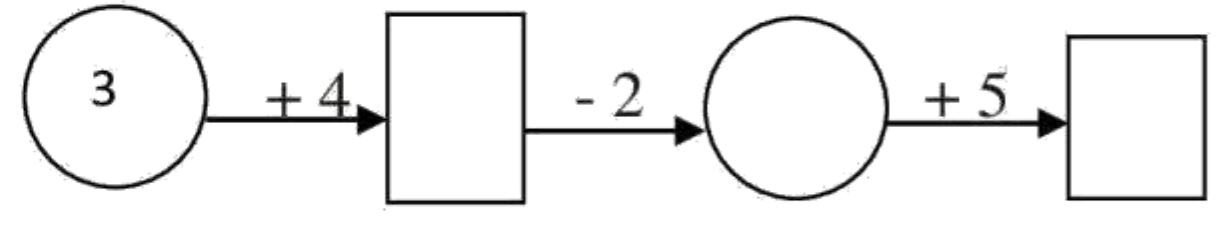
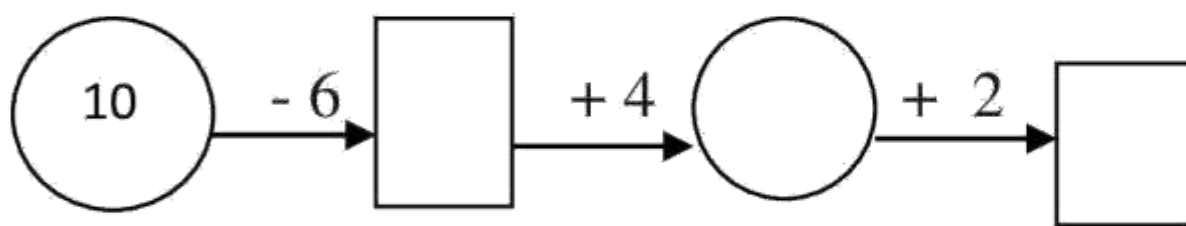
**Câu 2. (MĐ1). Viết các số: 8; 1; 5; 4; 7; 2 theo thứ tự từ bé đến lớn: (1 điểm)**

A. 2; 1; 4; 5; 7; 8

B. 8; 7; 5; 4; 2; 1

C. 1; 2; 4; 5; 7; 8

D. 1; 2; 4; 5; 8; 7

**Câu 3. (MĐ1). Số? (1 điểm)****Câu 4. (MĐ2). Nối phép tính với kết quả thích hợp: (1 điểm)**

$4 + 5 - 2$

$10 - 3 + 0$

$9 - 6 + 4$

$6 + 3 - 5$

1

9

8

7

6

5

4

$10 - 5 + 3$

$0 + 10 - 2$

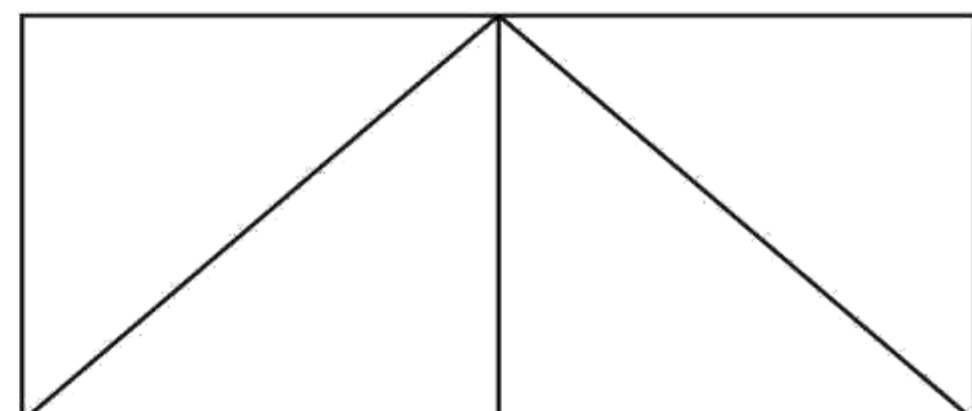
$5 + 3 - 2$

$1 + 6 - 2$

**Câu 5. (MĐ2). Khoanh vào chữ cái trước ý trả lời đúng: (1 điểm)**

Hình bên có số hình tam giác là:

A. 4    B. 5    C. 6



## II. Tự luận

**Câu 1. (MĐ2). Tính: (1 điểm)**

	+	3	=	10
+	😊	+	😊	-
3	+	4	=	
=	😊	=	😊	=
	-	7	=	

**Câu 2. (MĐ2). Điền dấu > < = vào chỗ chấm (1 điểm)**

$$4 + 3 \dots\dots 2 + 6 \qquad 5 + 2 \dots\dots 4 + 4$$

$$8 - 5 \dots\dots 7 - 1 \qquad 7 - 0 \dots\dots 4 + 2$$

**Câu 3. (MĐ2). Viết số thích hợp vào ô trống: (1 điểm)**

	4	5	1	2	3	6
--	---	---	---	---	---	---


+ 2

--	--	--	--	--	--	--


- 3

--	--	--	--	--	--	--


**Câu 4. (MĐ3). Viết phép tính thích hợp: (1 điểm)**



--	--	--	--	--



--	--	--	--	--



--	--	--	--	--

**Câu 5. (MĐ3). Điền các số 2; 6; 7 vào các ô trống sao cho cộng ba số trên mỗi cạnh của hình tam giác đều có kết quả bằng 10 (1 điểm)**

