

**ĐỀ 3****KIỂM TRA HỌC KÌ I MÔN TOÁN**

Họ và tên:.....

Thứ..... ngày..... tháng.....năm .....


Lớp


**Nhận xét của giáo viên**


.....


.....


**I. Trắc nghiệm (5 điểm)****Câu 1. (MĐ1). Đúng ghi Đ, sai ghi S vào ngôi sao (1 điểm)**

$5 + 4 = 8$  

$6 + 2 = 7$  

$8 - 3 = 5$  

$9 - 1 = 6$  

**Câu 2. (MĐ2). Số? (1 điểm)****Câu 3. (MĐ1). Điền dấu thích hợp vào chỗ chấm: (2 điểm)**

a)  $5 + 4 \dots\dots 4 + 5$

A. &gt;

B. &lt;

C. =

b)  $9 - 1 \dots\dots 2 + 7$

A. &gt;

B. &lt;

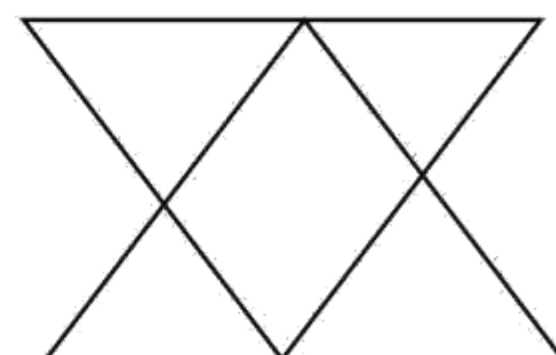
C. =

**Câu 4. (MĐ2). Hình bên có mấy hình tam giác? (1 điểm)**

A. 4 hình tam giác

B. 5 hình tam giác

C. 6 hình tam giác



**II. Tự luận (5 điểm)**

**Câu 1. (MĐ2). Điền số thích hợp vào ô trống (theo mẫu): (1 điểm)**

4	+	2	1	0	3	6	5	4
		6						

4	-	10	7	8	9	4	5	6
		6						

**Câu 2. (MĐ2). Cho các số: 10; 3; 2; 7; 9; 6; 4 (1 điểm)**

a) Sắp xếp các số trên theo thứ tự:

+ Từ bé đến lớn: .....

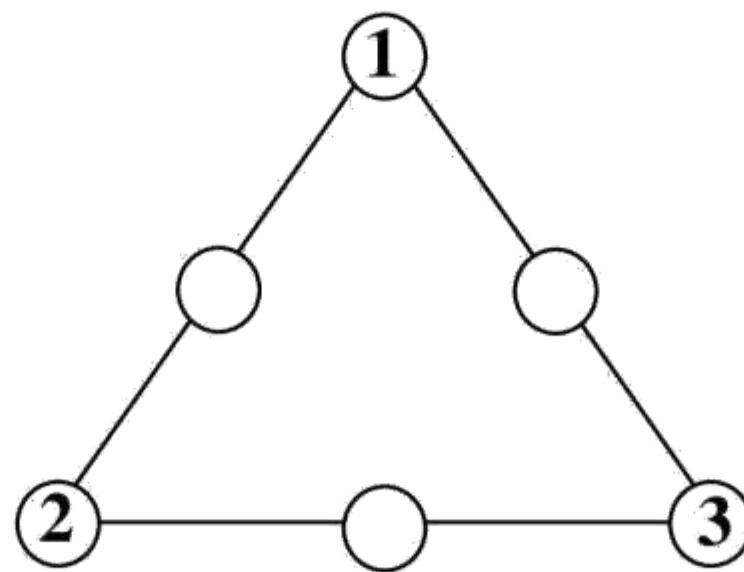
+ Từ lớn đến bé: .....

b) Trong các số trên, số lớn nhất là.....; số bé nhất là:.....

**Câu 3. (MĐ3). Viết 2 phép tính cộng và hai phép tính trừ thích hợp: (1 điểm)**




**Câu 4. (MĐ3). Điền các số 4; 5; 6 vào ô trống để cộng ba số trên mỗi cạnh của hình tam giác đều bằng 9: (1 điểm)**



**Câu 5. (MĐ2). Số ? (1 điểm)**

Có..... hình vuông.

Có.....hình tam giác.

