

ĐỀ 2**KIỂM TRA HỌC KÌ I MÔN TOÁN**

Họ và tên:.....

Thứ..... ngày..... thángnăm

Lớp

Nhận xét của giáo viên

.....

.....

I. Trắc nghiệm (5 điểm)**Câu 1. (MĐ1). Đánh dấu X vào đặt trước cách viết đúng: (1 điểm)**

$5 + 3 < 6$

$5 + 3 = 6$

$5 + 3 > 6$

Câu 2. (MĐ1). Đúng ghi Đ, sai ghi S vào (1 điểm)

$4 + 1 + 3 = 8$

$5 - 0 + 3 = 7$

$3 + 3 + 2 = 7$

$6 - 3 + 4 = 8$

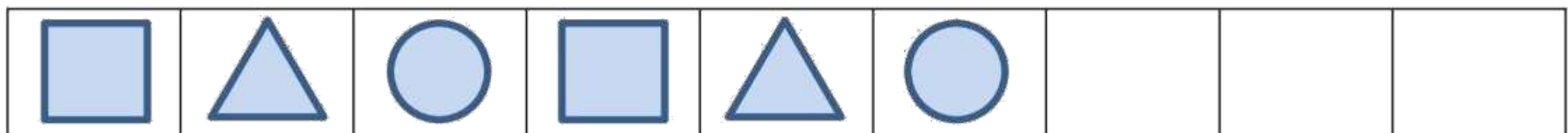
Câu 3. (MĐ1). Trong các số từ 0 đến 10, số lớn nhất có 1 chữ số là: (1 điểm)

A. 10

C. 8

B. 9

D. 7

Câu 4. (MĐ2). Em hãy vẽ tiếp 3 hình thích hợp nữa vào ô trống (1 điểm)**Câu 5. (MĐ2). Số? (1 điểm)**

Có.....hình tròn.



II. Tự luận

Câu 1. (MĐ2). Số? (1 điểm)

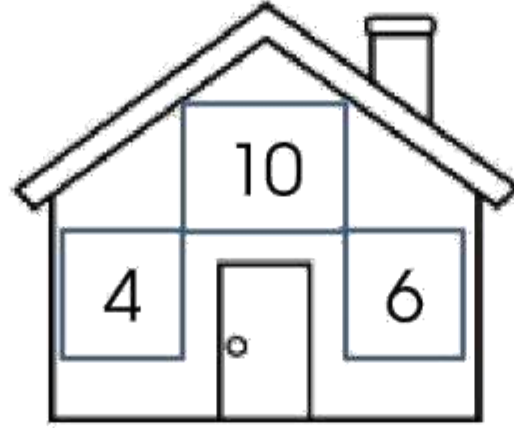
$$7 + \dots = 4 + 4$$

$$2 + 3 = 7 - \dots$$

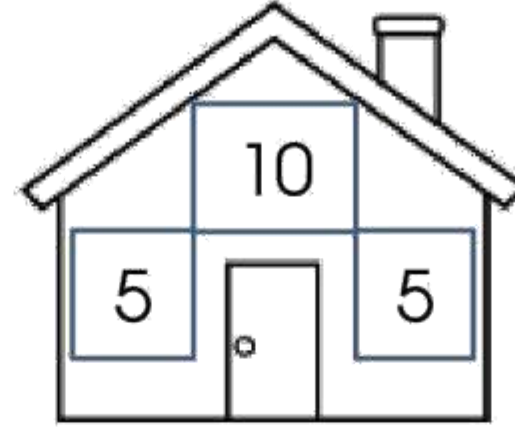
$$\dots + 0 = 5 + 2$$

$$1 + 6 = \dots - 0$$

Câu 2. (MĐ2). Viết phép tính thích hợp để hoàn thành “ngôi nhà phép tính” (1 điểm)



	+		=	
	+		=	
	-		=	
	-		=	



	+		=	
	-		=	

Câu 3. (MĐ2). <, >, = (1 điểm)



$$1 + 4 \square 5 - 2$$

$$3 - 2 \square 2 - 1$$

$$5 - 3 \square 4 - 0$$

$$2 + 3 \square 0 + 5$$

Câu 4. (MĐ3). Viết phép tính thích hợp: (1 điểm)



Câu 5. (MĐ3). Đố? (1 điểm)

Em đoán xem ba bạn Trường, Thành, Hùng ai mặc áo màu nào? Em viết tên bạn đó vào chỗ trống ở dưới áo. Biết rằng :

- Thành không mặc áo màu đỏ
- Bạn Hùng không mặc áo màu đỏ mà cũng không mặc áo màu vàng

