

KIỂM TRA ĐỊNH KÌ CUỐI HỌC KỲ I  
NĂM HỌC 2024 – 2025

Môn: TOÁN 1

Thời gian: 40 phút

(không kể thời gian phát đề)


Họ và tên học sinh: .....

Lớp: Một/.....

Khoanh vào chữ cái trước kết quả đúng và hoàn thành các bài tập sau:

Câu 1. Nói:

a.   6  
 4

b.   9  
 3

Câu 2. Số

?

a. 

1	2	3	...
---	---	---	-----

6	7	8	..	1
---	---	---	----	---

Câu 3. Tính:

a.  $3 + 2 = \dots$

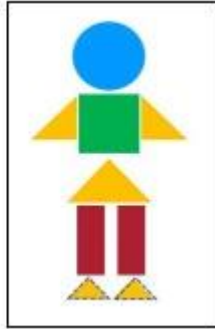
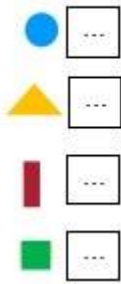
b.  $10 - 4 = \dots$

Câu 4. Viết phép tính phù hợp với hình vẽ:



--	--	--	--	--

Câu 5. Số?



**Câu 6.**  $3 \dots 3 + 4$ . Dấu điền vào chỗ chấm là:

- A. <
- B. >
- C. =
- D. +

**Câu 7:**  $5 \ 4 = 9$  Dấu điền vào ô trống là:

- A. -
- B. +
- C. =
- D. <

**Câu 8.**

a. Điền dấu >, <, =

$3 + 2 \square 4$

$5 + 1 \square 7 - 1$

b. Kết quả phép tính là:

$7 + 2 - 3 = \dots\dots\dots$

$5 - 3 + 4 = \dots\dots\dots$

**Câu 9.** Số ?

$4 + 2 + \dots = 3 + 5$

**Bài 10.** Hình thích hợp để đặt vào dấu “?” là hình.....

