

# KIỂM TRA CUỐI HỌC KÌ I

NĂM HỌC: 2024-2025

Môn: Toán


Thời gian: 40 Phút ( không kể phát  
đề)

Trường Tiểu học .....


Lớp: 1A....

Họ và tên:.....

**Câu 1.** (0.5đ) Khoanh vào số thích hợp:



6	5	4	3		7	8	9	10
---	---	---	---	--	---	---	---	----



**Câu 2.** (0.5đ) Hãy khoanh vào chữ cái đặt trước câu trả lời đúng:

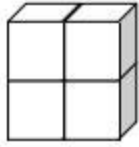
Các số lớn hơn 7?

- A. 5, 6, 7
- B. 7, 8, 9
- C. 8, 9, 10
- D. 7, 1, 10

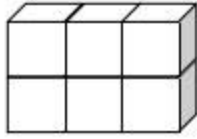
**Câu 3.** (0.5đ) Ghi đúng (Đ), sai (S) vào ô trống:

- $0 = 7 - 7$
- $6 = 4 + 3$
- $9 - 5 = 3$
- $10 - 8 = 2$

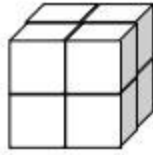
**Câu 4.**(0,5đ) Hình nào là khối lập phương?



A



B



C



D

**Câu 5.** (2đ) Số?

a)

3		10		4		7	
+		-		+		-	
6		3		6		4	
		.....		.....		.....	
.....		-		-		-	

b)  $8 + 0 + 2 = \dots\dots\dots$

$10 - 0 - 4 = \dots\dots\dots$

**Câu 6.** (1đ) Điền dấu <, >, = thích hợp vào chỗ chấm:

$8 - 2 \dots 5$

$1 + 3 \dots 4 + 3$

**Câu 7.** (0.5đ) Hãy khoanh vào chữ cái đặt trước câu trả lời đúng:

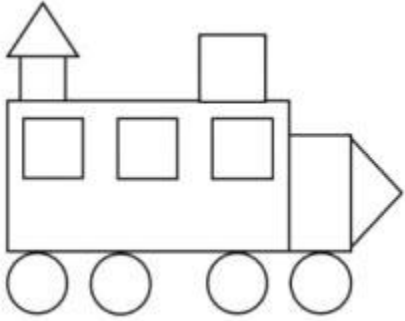
Số điền vào ô trống trong phép tính  $\square - 5 = 3$

- A. 7
- B. 2
- C. 6
- D. 8

**Câu 8.** (0.5đ) Hãy khoanh vào chữ cái đặt trước câu trả lời đúng:

Hình bên có:

- A. 5 hình vuông, 2 hình chữ nhật
- B. 4 hình tròn, 2 hình tam giác
- C. 4 hình vuông, 3 hình chữ nhật
- D. Cả A và B



**Câu 9.** (1đ) Số thích hợp điền vào chỗ chấm:  $9 - 2 < \dots - 1 < 9 + 0$

**Câu 10.** (1đ) Viết phép tính thích hợp vào ô trống:



--	--	--	--	--

**Câu 11.** (1đ) Ba bạn Mai, Nam và Rô-bốt cùng chạy thi, Nam chạy nhanh nhất, Mai chạy thứ hai, Rô-bốt chạy thứ ba. Nếu bạn Hà ở giữa bạn Nam và Mai thì khi đó Rô-bốt chạy thứ mấy?

**Câu 12.** (1đ) Năm bạn thỏ đang chơi thì trời mưa, các bạn chạy vào trong cả hai chuồng. Hỏi mỗi chuồng có mấy con thỏ? Biết rằng số thỏ ở chuồng A nhiều hơn số thỏ ở chuồng B.