

Họ và tên: .....

Lớp: .....

## ĐỀ KIỂM TRA HỌC KÌ 1 – ĐỀ 2

Môn: Toán – Lớp 4

Bộ sách: Kết nối tri thức

Thời gian làm bài: 40 phút

### I. TRẮC NGHIỆM (Khoanh vào chữ đặt trước câu trả lời đúng)

**Câu 1.** Số lớn nhất trong các số 23 076 934; 320 656 987; 87 654 299; 320 437 101 là:

- A. 23 076 934                      B. 320 656 987                      C. 87 654 299                      D. 320 437 101

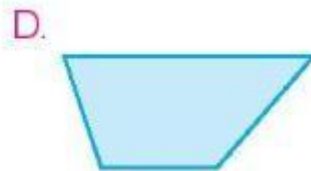
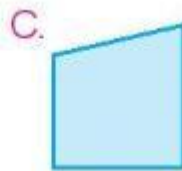
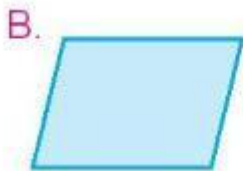
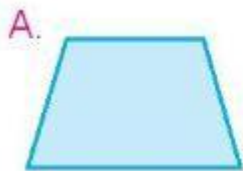
**Câu 2.** Số “Sáu trăm bốn mươi một triệu tám trăm hai mươi nghìn” viết là:

- A. 640 820 000                      B. 641 802 000                      C. 641 822 000                      D. 641 820 000

**Câu 3.** Số thứ sáu trong dãy số 212, 232, 252, 272, .... là:

- A. 292                                  B. 302                                  C. 312                                  D. 322

**Câu 4.** Hình có 2 góc nhọn, 2 góc tù và 2 cặp cạnh song song là:



**Câu 5.** Lễ kỉ niệm 600 năm ngày sinh của Đại thi hào Nguyễn Trãi được tổ chức vào năm 1980.

Vậy Đại thi hào Nguyễn Trãi được sinh ra ở thế kỉ:

- A. XIII                                  B. XIV                                  C. XIX                                  D. XX

**Câu 6.** Mẹ sinh Nam năm 27 tuổi. Hiện tại, tổng số tuổi của mẹ và Nam là 45 tuổi. Số tuổi của Nam hiện nay là:

- A. 6 tuổi                                  B. 7 tuổi                                  C. 8 tuổi                                  D. 9 tuổi

### II. TỰ LUẬN

**Câu 1.** Đặt tính rồi tính

$$538\ 042 + 142\ 378$$

$$729\ 062 - 68\ 504$$

$$5\ 143 \times 3$$

$$47\ 012 : 7$$

.....

.....

.....

.....

.....

.....

.....

.....

.....

.....

.....

.....

**Câu 2.** Điền số thích hợp vào chỗ trống.

a) 12 tấn 7 yến = ..... kg

b)  $3\text{ dm}^2\ 80\text{ mm}^2 = \dots\dots\dots\text{ mm}^2$

c)  $9\ 234\text{ cm}^2 = \dots\dots\dots\text{ dm}^2 \dots\dots\dots\text{ cm}^2$

d) 5 phút 45 giây = ..... giây

