

Họ và tên:

Lớp:

ĐỀ KIỂM TRA HỌC KÌ 1

Môn: Toán – Lớp 3

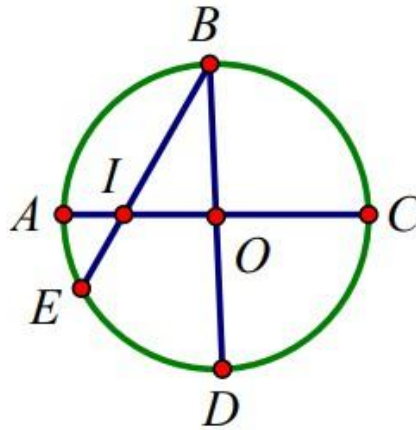
Bộ sách: Kết nối tri thức

Thời gian làm bài: 40 phút

I. TRẮC NGHIỆM

(Khoanh vào chữ đặt trước câu trả lời đúng)

Câu 1. Hình tròn bên có số đường kính là:



- A. 5 B. 4 C. 3 D. 2

Câu 2. Nhiệt độ cơ thể của người bình thường là:

- A. 36°C B. 37°C C. 38°C D. 25°C

Câu 3. Một hộp bánh chứa được nhiều nhất 6 cái bánh. Nếu có 87 cái bánh thì cần ít nhất bao nhiêu cái hộp như thế?

- A. 14 hộp B. 15 hộp C. 16 hộp D. 17 hộp

Câu 4. Hoa có 64 chiếc bút chì màu. Hoa chia cho Hồng $\frac{1}{4}$ số bút chì màu Hoa có. Hỏi Hồng được


chia bao nhiêu cái bút chì màu?

- A. 32 cái bút B. 15 cái bút
C. 16 cái bút D. 18 cái bút

Câu 5. Biết $x - 59 = 264$. Vậy x bằng:

- A. 323 B. 205 C. 215 D. 313

Câu 6. Hình vẽ bên có:



A. 3 hình tam giác, 3 hình tứ giác

B. 5 hình tam giác, 4 hình tứ giác

C. 3 hình tam giác, 2 hình tứ giác

D. 5 hình tam giác, 3 hình tứ giác

PHẦN 2. TỰ LUẬN

Câu 1. Đặt tính rồi tính:

a) $665 + 245$

b) $600 - 387$

c) 284×3

d) $780 : 4$

Câu 2. Tìm x:

a) $x : 5 = 360 : 6$

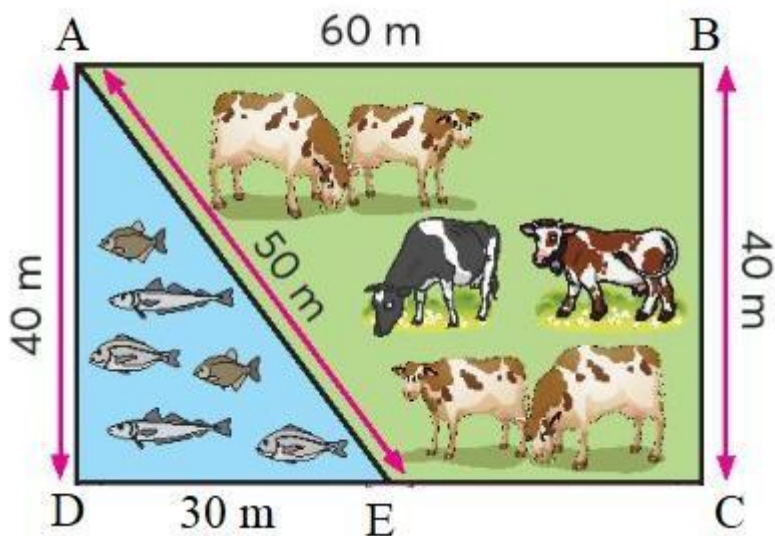
b) $896 : x = 8$

Câu 3. Tính giá trị của biểu thức:

a) $(475 - 384) \times 3$

b) $345 + 87 : 3$

Câu 4. Bác An có một mảnh vườn như hình vẽ. Tính chu vi của ao cá và trang trại nuôi bò của bác An.



.....
.....

Câu 5. Trong vườn nhà Mai có 24 cây bưởi. Số cây cam gấp 3 lần số cây bưởi. Hỏi trong vườn nhà Mai có tất cả bao nhiêu cây bưởi và cây cam?

.....
.....
.....
.....
.....

