

Họ và tên:

Lớp:

ĐỀ KIỂM TRA HỌC KÌ 1

Môn: Toán – Lớp 3


Bộ sách: Kết nối tri thức

Thời gian làm bài: 40 phút

I. TRẮC NGHIỆM

(Khoanh vào chữ đặt trước câu trả lời đúng)

Câu 1. Các số cần điền vào ô trống lần lượt là:



A. 42; 15

B. 42; 14

C. 40; 12

D. 40; 14

Câu 2. Quả táo cân nặng số gam là:



A. 250 g

B. 300 g

C. 350 g

D. 400 g

Câu 3. Có 286 m vải, may mỗi bộ quần áo hết 3 m vải. Hỏi có thể may nhiều nhất bao nhiêu bộ quần áo và còn thừa mấy mét vải?

A. 94 bộ quần áo và thừa 4 mét vải

B. 95 bộ quần áo và thừa 1 mét vải

C. 96 bộ quần áo

D. 95 bộ quần áo và thừa 2 mét vải

Câu 4. $\frac{1}{4}$ số quả dưa hấu là:



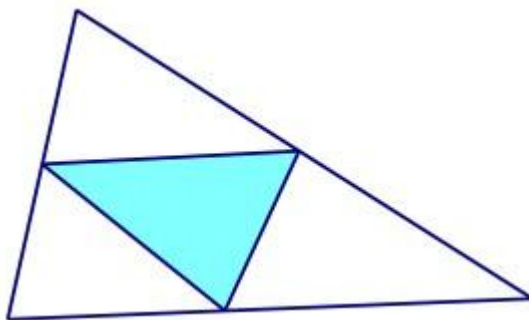
A. 2 quả

B. 5 quả

C. 4 quả

D. 3 quả

Câu 5. Hình dưới đây có mấy hình tam giác:



- A. 5 B. 4 C. 6 D. 7

Câu 6. Một sợi dây dài 4m5dm. An cắt một đoạn dây dài bằng $\frac{1}{5}$ độ dài sợi dây đó. Độ dài đoạn dây An đã cắt là:

- A. 9 cm B. 7 dm C. 9 dm D. 8 dm

PHẦN 2. TỰ LUẬN

Câu 1. Đặt tính rồi tính:

- a) 364×2 b) $546 : 3$

.....
.....
.....

Câu 2. Tìm x biết:

- a) $x : 7 = 59 + 43$ b) $560 - x = 90 + 205$

.....
.....
.....

Câu 3. Tính giá trị của biểu thức:

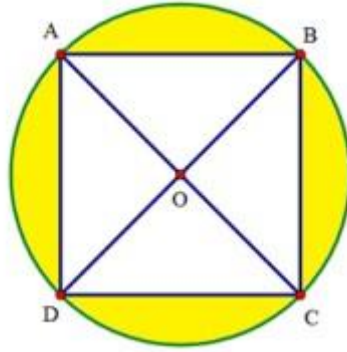
- a) $178 + 96 : 2$ b) $144 : 4 \times 5$

.....
.....
.....

Câu 4. Viết vào chỗ chấm cho thích hợp:

Cho hình vuông ABCD và hình tròn tâm O như hình vẽ.

- a) O là trung điểm của đoạn thẳng và đoạn thẳng
b) Hình vẽ có góc vuông.
c) Biết $AC = 8$ cm. Độ dài bán kính của hình tròn là cm.



Câu 5. Nhà Nam nuôi một đàn gà. Số gà trống là 125 con. Số gà mái nhiều hơn số gà trống 38 con.
Hỏi đàn gà nhà Nam có tất cả bao nhiêu con?

.....

.....

.....

.....

