

Họ và tên:

Lớp:

ĐỀ KIỂM TRA HỌC KÌ 1

Môn: Toán – Lớp 3

Bộ sách: Kết nối tri thức

Thời gian làm bài: 40 phút

I. TRẮC NGHIỆM

(Khoanh vào chữ đặt trước câu trả lời đúng)


Câu 1. Tích của hai số là 456, biết thừa số thứ nhất là 3. Thừa số thứ hai là:

- A. 150 B. 152 C. 112 D. 102

Câu 2. Buổi sáng cửa hàng bán được 134 kg gạo. Số gạo buổi chiều bán được bằng số gạo buổi sáng bán giảm đi 2 lần. Hỏi cả hai buổi cửa hàng đó bán được bao nhiêu ki-lô-gam gạo?

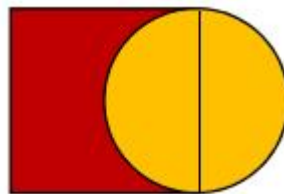
- A. 67 kg B. 132 kg C. 268 kg D. 201 kg

Câu 3. $\frac{1}{8}$ số cây bắp cải là:



- A. 2 cây B. 3 cây C. 4 cây D. 5 cây

Câu 4. Bán kính của hình tròn (như hình vẽ) là 9 dm. Độ dài cạnh của hình vuông là:



- A. 18 dm B. 9 dm C. 12 dm D. 27 dm

Câu 5. 1kg =..... g

- A. 1000 B. 10 C. 100 D. 1

Câu 6. Bác An có một cái ao dạng hình chữ nhật có chiều rộng 21 m. Chiều dài gấp 2 lần chiều rộng. Bác An muốn quây lưới xung quanh ao để nuôi vịt. Hỏi bác An cần chuẩn bị bao nhiêu mét lưới?

- A. 42 m lưới B. 63 m lưới C. 126 m lưới D. 84 m lưới

PHẦN 2. TỰ LUẬN

Câu 1. Đặt tính rồi tính:

a) $243 - 198$

b) 8×34

c) $879 : 3$

d) $765 : 9$

Câu 2. Số?

a) $\square + 136 = 407$

b) $628 : \square = 4$

c) $482 - \square = 134$

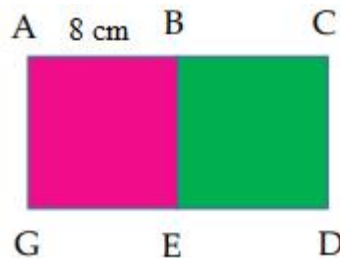
d) $6 \times \square = 174$

Câu 3. Tính giá trị của biểu thức:

a) $352 - 28 \times 4$

b) $(154 + 36) : 2$

Câu 4. Cho ABEG và BCDE là hai hình vuông có cạnh dài 8 cm (như hình vẽ). Tính độ dài đường gấp khúc ABEDC.



Câu 5. Người ta đóng 576 cái bánh nướng vào các hộp, mỗi hộp 8 cái bánh. Sau đó xếp các hộp bánh vào thùng, mỗi thùng 6 hộp bánh. Hỏi người ta xếp được bao nhiêu thùng bánh?

