

Họ và tên:

Lớp:

ĐỀ KIỂM TRA HỌC KÌ 1

Môn: Toán – Lớp 3

Bộ sách: Kết nối tri thức

Thời gian làm bài: 40 phút

I. TRẮC NGHIỆM

(Khoanh vào chữ đặt trước câu trả lời đúng)


Câu 1. Giảm 504 đi 4 lần ta được:

- A. 500 B. 125 C. 118 D. 126


Câu 2. 3 là số dư của phép chia:

- A. $84 : 6$ B. $135 : 4$ C. $328 : 6$ D. $407 : 3$

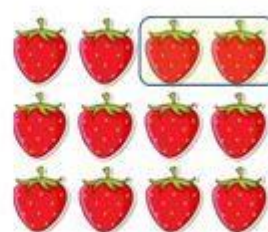
Câu 3. Hình đã khoanh vào $\frac{1}{6}$ số quả dâu tây là:




A.



B.



C.



D.

Câu 4. Một mảnh vườn hình chữ nhật có chu vi là 92 m và chiều rộng là 14 m. Chiều dài của mảnh vườn đó là:

- A. 32 m B. 78 m C. 43 m D. 34 m

Câu 5. Hai chị em Mai và Nam giúp bố mẹ thu hoạch bưởi. Nam hái được 28 quả bưởi. Mai hái được số quả bưởi gấp 3 lần số bưởi của Nam hái. Vậy cả hai chị em hái được:

- A. 96 quả bưởi B. 84 quả bưởi C. 116 quả bưởi D. 112 quả bưởi

Câu 6. Chú Minh làm những chiếc đèn lồng có khung dạng khối lập phương (như hình vẽ).

Ở mỗi đỉnh của chiếc khung, chú Minh dùng một sợi dây lạt để buộc. Để làm 18 chiếc khung đèn như vậy thì chú Minh cần dùng bao nhiêu sợi dây lạt?



- A. 72 sợi dây lạt B. 108 sợi dây lạt
C. 144 sợi dây lạt D. 156 sợi dây lạt

PHẦN 2. TỰ LUẬN

Câu 1. Đặt tính rồi tính:

a) 72×9

b) 192×3

c) $632 : 6$

d) $994 : 7$

Câu 2. Số?

a) $4 \times \square = 288$

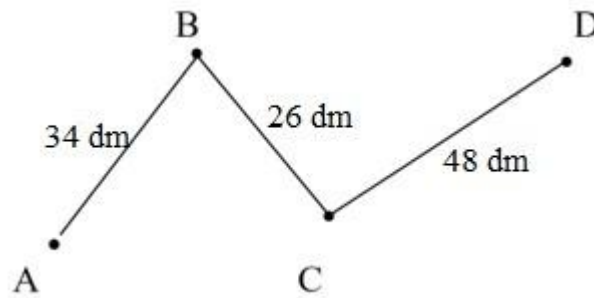
b) $\square : 8 = 64$

Câu 3. Tính giá trị của biểu thức:

a) $245 + 126 : 6$

b) $(39 + 371) : 5$

Câu 4. a) Tính độ dài đường gấp khúc ABCD:



b) Số?



Chùm nho cân nặng..... gam.

Câu 5. Một hộp sữa cân nặng 180 g, một gói bánh mì cân nặng 400 g. Hỏi 3 hộp sữa và 1 gói bánh mì cân nặng bao nhiêu gam?

