

Họ và tên: .....

Lớp: .....

## ĐỀ KIỂM TRA HỌC KÌ 1

Môn: Toán – Lớp 2

Bộ sách: Kết nối tri thức

Thời gian làm bài: 40 phút

### I. TRẮC NGHIỆM

(Khoanh vào chữ đặt trước câu trả lời đúng)

**Câu 1.** Số liền sau của 69 là:

- A. 60                      B. 68                      C. 80                      D. 70

**Câu 2.** Dấu thích hợp điền vào chỗ chấm  $23 + 48 \dots 90 - 32$  là:

- A. <                      B. >                      C. =

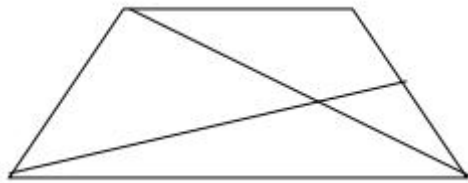
**Câu 3.** 4 giờ chiều hay còn gọi là ..... giờ.

- A. 18 giờ                      B. 15 giờ                      C. 16 giờ                      D. 17 giờ

**Câu 4.** Thứ tư tuần này là ngày 13 tháng 12 thì thứ tư tuần sau là ngày.....tháng 12.

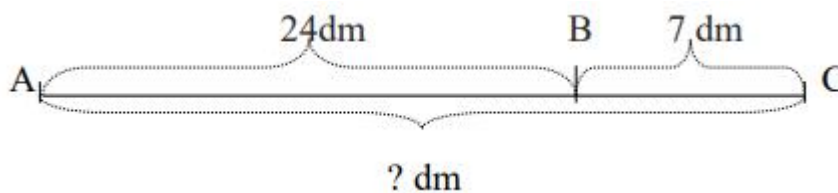
- A. 20                      B. 21                      C. 22                      D. 23

**Câu 5.** Hình bên có bao nhiêu hình tứ giác?



- A. 1                      B. 2                      C. 3                      D. 4

**Câu 6.** Đoạn thẳng AC dài là:



- A. 31 dm                      B. 30 dm                      C. 94 dm                      D. 31 cm

**Câu 7.**  $8 \text{ dm} = \dots \text{ cm}$

- A. 40                      B. 80                      C. 8                      D. 60

**Câu 8.** Bao ngô cân nặng 46 kg, bao thóc nặng hơn bao ngô 18 kg. Hỏi bao thóc nặng bao nhiêu ki-lô-gam?

- A. 64 kg                      B. 28 kg                      C. 54 kg                      D. 63 kg

### PHẦN 2. TỰ LUẬN

**Câu 1.** Đặt tính rồi tính:

- a)  $57 + 28$                       b)  $81 - 36$                       c)  $90 - 46$                       d)  $47 + 29$

.....  
.....  
.....  
**Câu 2.** Tìm x:

a)  $x + 28 = 64$

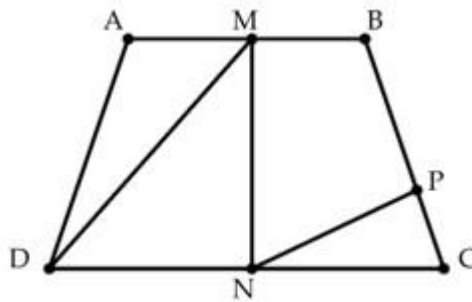
b)  $98 - x = 19$

.....  
.....

**Câu 3.** Năm nay bố Lan 43 tuổi. Bố nhiều hơn Lan 29 tuổi. Hỏi năm nay Lan bao nhiêu tuổi?

.....  
.....  
.....

**Câu 4.** Quan sát hình vẽ dưới đây cho biết:



a) Viết ba điểm thẳng hàng có trong hình vẽ.

b) Hình trên có bao nhiêu hình tam giác, bao nhiêu hình tứ giác.

.....  
.....  
.....

