

Họ và tên:

Lớp:

ĐỀ KIỂM TRA HỌC KÌ 1

Môn: Toán – Lớp 2

Bộ sách: Cánh diều

Thời gian làm bài: 40 phút

I. TRẮC NGHIỆM

(Khoanh vào chữ đặt trước câu trả lời đúng)

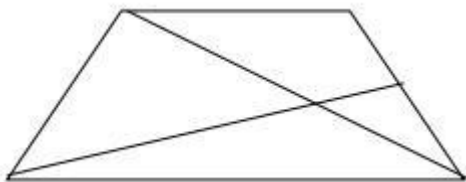
Câu 1. Số liền sau của 69 là:

- A. 60 B. 68 C. 80 D. 70

Câu 2. Dấu thích hợp điền vào chỗ chấm $23 + 48 \dots 90 - 32$ là:

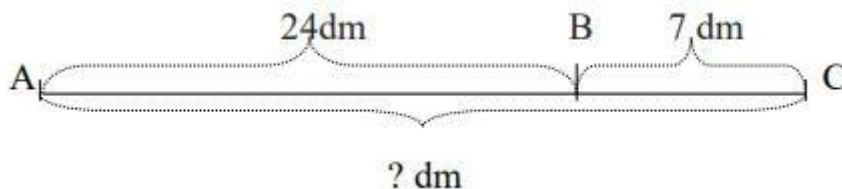
- A. < B. > C. =

Câu 3. Hình bên có bao nhiêu hình tứ giác?



- A. 1 B. 2 C. 3 D. 4

Câu 4. Đoạn thẳng AC dài là:



- A. 31 dm B. 30 dm C. 94 dm D. 31 cm

Câu 5. $8 \text{ dm} = \dots \text{ cm}$

- A. 40 B. 80 C. 8 D. 60

Câu 6. Bao ngô cân nặng 46 kg, bao thóc nặng hơn bao ngô 18 kg. Hỏi bao thóc nặng bao nhiêu ki-lô-gam?

- A. 64 kg B. 28 kg C. 54 kg D. 63 kg

PHẦN 2. TỰ LUẬN

Câu 1. Đặt tính rồi tính:

- a) $57 + 28$ b) $81 - 36$ c) $90 - 46$ d) $47 + 29$

.....
.....
.....

Câu 2. Tìm x:

a) $x + 28 = 64$

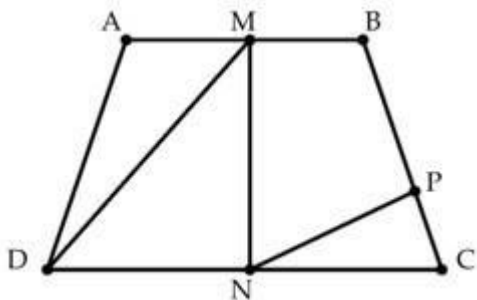
b) $98 - x = 19$

.....
.....

Câu 3. Năm nay bố Lan 43 tuổi. Bố nhiều hơn Lan 29 tuổi. Hỏi năm nay Lan bao nhiêu tuổi?

.....
.....
.....

Câu 4. Quan sát hình vẽ dưới đây cho biết:



a) Viết ba điểm thẳng hàng có trong hình vẽ.

b) Hình trên có bao nhiêu hình tam giác, bao nhiêu hình tứ giác.

.....
.....
.....

