

Họ và tên:

Lớp:

ĐỀ KIỂM TRA HỌC KÌ 1

Môn: Toán – Lớp 2

Bộ sách: Cánh diều

Thời gian làm bài: 40 phút

I. TRẮC NGHIỆM

(Khoanh vào chữ đặt trước câu trả lời đúng)

Câu 1. Số liền sau của 78 là:

- A. 80 B. 76 C. 77 D. 79

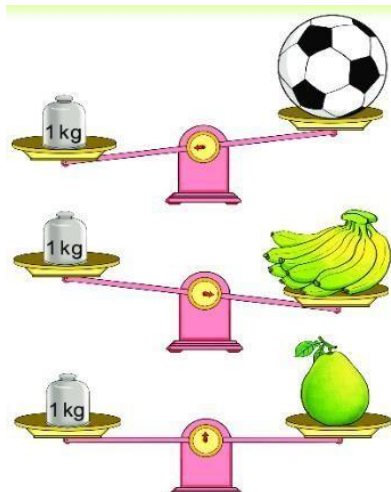
Câu 2. Số thích hợp điền vào chỗ chấm $24 \text{ kg} + 5 \text{ kg} + 26 \text{ kg} = \dots\dots \text{ kg}$ là:

- A. 50 kg B. 45 kg C. 55 kg D. 60 kg

Câu 3. Tính tổng, biết các số hạng là 48 và 17:

- A. 31 B. 65 C. 41 D. 55

Câu 4. Vật nào nhẹ nhất trong hình dưới đây:



- A. Quả bóng B. Nải chuối C. Quả bưởi

Câu 5. Bàn học của em dài khoảng bao nhiêu đề-xi-mét?

- A. 11 dm B. 30 dm C. 2 dm D. 100 cm

Câu 6. Mẹ vắt được 67 lít sữa bò, chị vắt được 33 lít sữa bò. Hỏi mẹ và chị vắt được bao nhiêu lít sữa bò?

- A. 34 lít B. 100 lít C. 44 lít D. 90 lít

PHẦN 2. TỰ LUẬN

Câu 1. Đặt tính rồi tính:

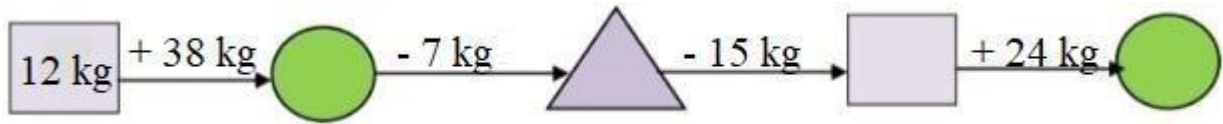
- a) $26 + 35$ b) $26 + 59$ c) $75 - 17$ d) $60 - 43$

.....

.....

.....

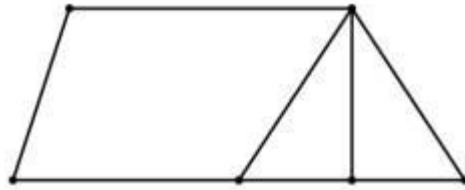
Câu 2. Số?



Câu 3. Bao gạo cân nặng 45 kg, bao gạo nhẹ hơn bao ngô 8 kg. Vậy bao ngô cân nặng bao nhiêu ki-lô-gam?

.....
.....
.....

Câu 4. Quan sát hình vẽ dưới đây cho biết:



- a) Hình vẽ có bao nhiêu điểm?
- b) Hình vẽ có bao nhiêu hình tam giác?
- c) Hình vẽ có bao nhiêu hình tứ giác?

.....
.....
.....

