

Họ và tên:

Lớp:

ĐỀ KIỂM TRA HỌC KÌ 1

Môn: Toán – Lớp 2

Bộ sách: Cánh diều

Thời gian làm bài: 40 phút

I. TRẮC NGHIỆM

(Khoanh vào chữ đặt trước câu trả lời đúng)

Câu 1. Số gồm 8 chục 6 đơn vị là:

- A. 68 B. 88 C. 86 D. 62

Câu 2. Số liền trước của số tròn chục lớn nhất có hai chữ số là:

- A. 90 B. 89 C. 91 D. 99

Câu 3. Trong phép trừ $73 - 18 = 55$, số 18 gọi là:

- A. Số hạng B. Số trừ C. Số bị trừ D. Hiệu

Câu 4. Số lớn nhất trong dãy số 46, 75, 52, 68 là:

- A. 46 B. 75 C. 52 D. 68

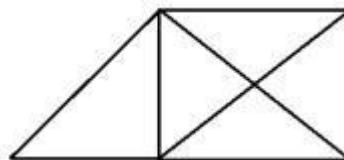
Câu 5. Số thích hợp để điền vào chỗ chấm $33 \text{ dm} + 57 \text{ dm} = \dots\dots\dots \text{ dm}$ là:

- A. 90 B. 80 C. 91 D. 89

Câu 6. Bác Hà mang 75 quả trứng ra chợ bán trong đó có 18 quả trứng vịt, còn lại là trứng gà. Hỏi số quả trứng gà bác Hà mang ra chợ là bao nhiêu quả?

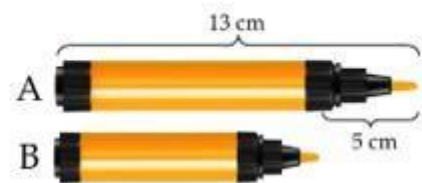
- A. 57 quả B. 93 quả C. 67 quả D. 66 quả

Câu 7. Số hình tứ giác có trong hình vẽ bên là:



- A. 2 B. 3 C. 4 D. 5

Câu 8. Đúng ghi Đ, Sai ghi S vào ô trống:



Bạn Long nhẹ hơn bạn Thu

Tổng hai xô nước là 15 lít

Bút chì B dài 9 cm

PHẦN 2. TỰ LUẬN

Câu 1. Đặt tính rồi tính:

a) $54 + 17$

b) $39 + 55$

c) $81 - 23$

d) $94 - 36$

.....

.....

.....

.....

.....

.....

.....

.....

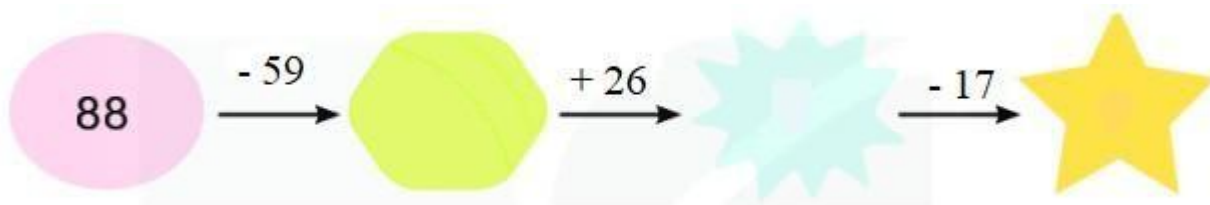
.....

.....

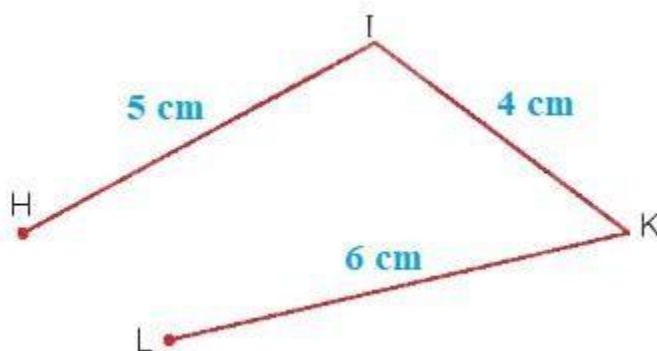
.....

.....

Câu 2. Số?



Câu 3. Quan sát hình vẽ dưới đây cho biết:



a) Đường gấp khúc HIKL gồm mấy đoạn thẳng

b) Độ dài đường gấp khúc HIKL dài bao nhiêu xăng-ti-mét?

.....

.....

.....

.....

Câu 4. Buổi sáng cửa hàng bán được 46 mét vải. Buổi chiều cửa hàng bán được nhiều hơn buổi sáng 17 mét vải. Hỏi buổi chiều cửa hàng đó bán được bao nhiêu mét vải?

.....

.....

.....

.....

