

Họ và tên:

Lớp:

ĐỀ KIỂM TRA HỌC KÌ 1

Môn: Toán – Lớp 3


Bộ sách: Chân trời sáng tạo

Thời gian làm bài: 40 phút

I. TRẮC NGHIỆM

(Khoanh vào chữ đặt trước câu trả lời đúng)

Câu 1. Các số cần điền vào ô trống lần lượt là:



- A. 42; 15 B. 42; 14 C. 40; 12 D. 40; 14


Câu 2. Làm tròn số 564 đến hàng chục thì được số:

- A. 570 B. 500 C. 560 D. 600

Câu 3. Có 58 du khách cần qua sông. Mỗi chuyến thuyền chở được nhiều nhất 6 du khách. Vậy để chở hết du khách qua sông cần ít nhất số chuyến thuyền là:

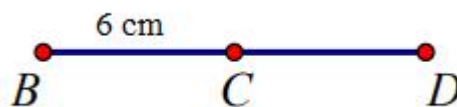
- A. 8 chuyến B. 9 chuyến C. 10 chuyến D. 11 chuyến

Câu 4. $\frac{1}{4}$ số quả dưa hấu là:



- A. 2 quả B. 5 quả C. 4 quả D. 3 quả

Câu 5. Biết C là trung điểm của đoạn thẳng BD. Độ dài đoạn thẳng BD là:



- A. 6 cm B. 3 cm C. 9 cm D. 12 cm

Câu 6. Một sợi dây dài 4m5dm. An cắt một đoạn dây dài bằng $\frac{1}{5}$ độ dài sợi dây đó. Độ dài đoạn

dây An đã cắt là:

- A. 9 cm B. 7 dm C. 9 dm D. 8 dm

PHẦN 2. TỰ LUẬN

Câu 1. Đặt tính rồi tính:

a) 364×2

b) $546 : 3$

.....
.....
.....

Câu 2. Tìm x biết:

a) $x : 7 = 59 + 43$

b) $560 - x = 90 + 205$

.....
.....
.....

Câu 3. Tính giá trị của biểu thức:

a) $178 + 96 : 2$

b) $144 : 4 \times 5$

.....
.....
.....

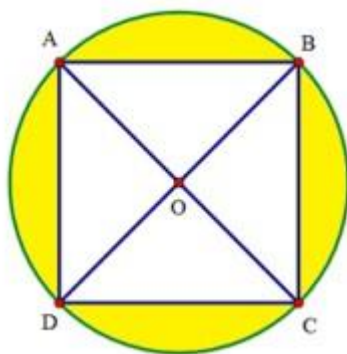
Câu 4. Viết vào chỗ chấm cho thích hợp:

Cho hình vuông ABCD và hình tròn tâm O như hình vẽ.

a) O là trung điểm của đoạn thẳng và đoạn thẳng

b) Hình vẽ có góc vuông.

c) Biết $AC = 8$ cm. Độ dài bán kính của hình tròn là cm.



Câu 5. Nhà Nam nuôi một đàn gà. Số gà trống là 125 con. Số gà mái nhiều hơn số gà trống 38 con.

Hỏi đàn gà nhà Nam có tất cả bao nhiêu con?

.....
.....
.....
.....

