

Họ và tên:

Lớp:

ĐỀ KIỂM TRA HỌC KÌ 1

Môn: Toán – Lớp 3

Bộ sách: Chân trời sáng tạo

Thời gian làm bài: 40 phút

I. TRẮC NGHIỆM

(Khoanh vào chữ đặt trước câu trả lời đúng)

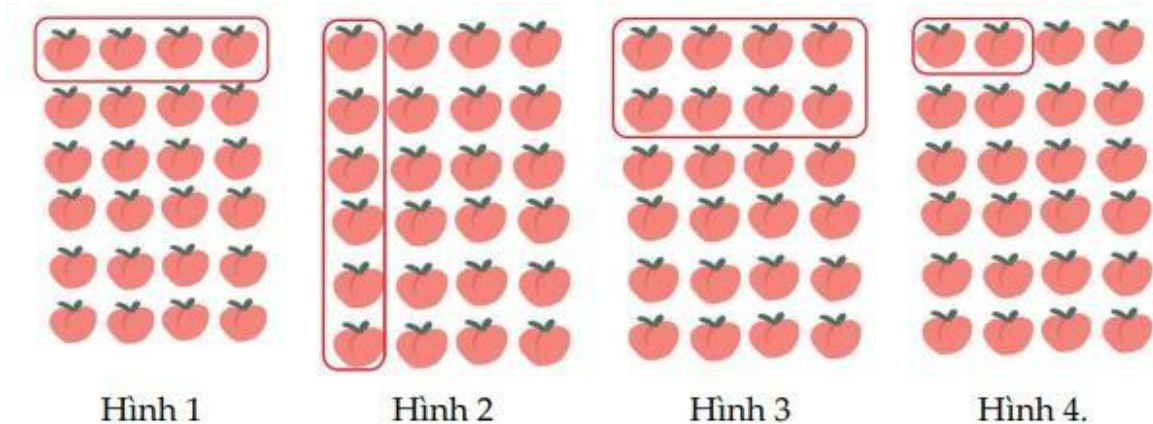
Câu 1. Kết quả của phép tính 163×3 là:

- A. 489 B. 166 C. 389 D. 468

Câu 2. Buổi sáng cửa hàng bán được 74 kg gạo. Số gạo buổi chiều bán được bằng số gạo buổi sáng bán giảm đi 2 lần. Hỏi cả hai buổi cửa hàng đó bán được bao nhiêu ki-lô-gam gạo?

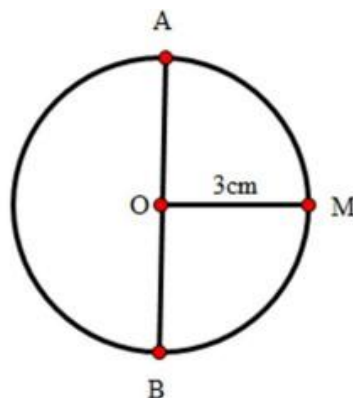
- A. 37 kg B. 100 kg C. 111 kg D. 120 kg

Câu 3. Trong các hình vẽ dưới đây, hình nào đã khoanh vào $\frac{1}{4}$ số quả hồng:



- A. Hình 1 B. Hình 2 C. Hình 3 D. Hình 4

Câu 4. Biết $OM = 3$ cm, đường kính của hình tròn tâm O dài là:




- A. 3 cm B. 6 cm C. 9 cm D. 8 cm

Câu 5. Số 16 được viết thành số La Mã là:

- A. VVI B. XIV C. XVI D. VXI

Câu 6. Quan sát hình bên và cho biết nhiệt kế đo được:



- A. 36°C B. 35°C C. 38°C D. 37°C

PHẦN 2. TỰ LUẬN

Câu 1. Đặt tính rồi tính:

- a) $243 - 198$ b) 8×34 c) $879 : 3$ d) $765 : 9$

.....
.....
.....

Câu 2. Số?

- a) $\square + 136 = 407$ b) $628 : \square = 4$
c) $482 - \square = 134$ d) $6 \times \square = 174$

Câu 3. Tính giá trị của biểu thức:

- a) $352 - 28 \times 4$ b) $(154 + 36) : 2$

.....
.....
.....

Câu 4. Trên cây có 70 quả táo, người ta đã hái $\frac{1}{5}$ số táo. Hỏi người đó đã hái bao nhiêu quả táo?

.....
.....
.....

Câu 5. Người ta đóng 576 cái bánh nướng vào các hộp, mỗi hộp 8 cái bánh. Sau đó xếp các hộp bánh vào thùng, mỗi thùng 6 hộp bánh. Hỏi người ta xếp được bao nhiêu thùng bánh?

.....

.....

.....

.....

