

Họ và tên:

Lớp:

ĐỀ KIỂM TRA HỌC KÌ 1

Môn: Toán – Lớp 3

Bộ sách: Kết nối tri thức

Thời gian làm bài: 40 phút

I. TRẮC NGHIỆM

(Khoanh vào chữ đặt trước câu trả lời đúng)


Câu 1. Giảm 504 đi 4 lần ta được:

- A. 500 B. 125 C. 118 D. 126


Câu 2. Số thích hợp điền vào chỗ trống là: 8dm 5mm = mm

- A. 85 B. 805 C. 508 D. 850


Câu 3. Hình đã khoanh vào $\frac{1}{6}$ số quả dâu tây là:




A.



B.




C.



D.

Câu 4. Biết M là trung điểm của đoạn thẳng AB theo hình vẽ dưới đây thì độ dài đoạn thẳng AB bằng:



- A. 18 cm B. 8 cm C. 9 cm D. 16 cm

Câu 5. Hai chị em Mai và Nam giúp bố mẹ thu hoạch bưởi. Nam hái được 28 quả bưởi. Mai hái được số quả bưởi gấp 3 lần số bưởi của Nam hái. Vậy cả hai chị em hái được:

- A. 96 quả bưởi B. 84 quả bưởi C. 116 quả bưởi D. 112 quả bưởi

Câu 6. Đồng hồ sau chỉ mấy giờ:



- A. 6 giờ 15 phút B. 6 giờ 20 phút
C. 4 giờ 32 phút D. 7 giờ 20 phút

PHẦN 2. TỰ LUẬN

Câu 1. Đặt tính rồi tính:

a) 72×9

b) 192×3

c) $632 : 6$

d) $994 : 7$

Câu 2. Số?

a) $4 \times \square = 288$

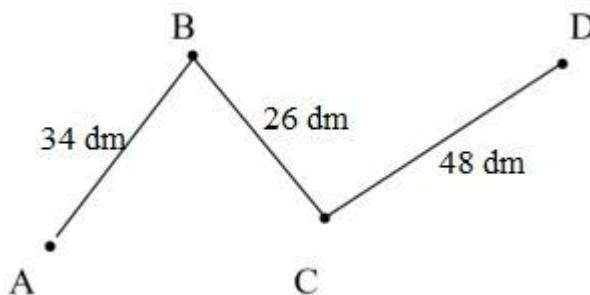
b) $\square : 8 = 64$

Câu 3. Tính giá trị của biểu thức:

a) $245 + 126 : 6$

b) $(39 + 371) : 5$

Câu 4. Tính độ dài đường gấp khúc ABCD:



Câu 5. Lớp em dự định tặng mỗi bạn học sinh có hoàn cảnh khó khăn một túi quà gồm 3 chiếc bút và 8 quyển vở. Số bút sẽ tặng là 96 chiếc. Hỏi để chuẩn bị đủ các túi quà, lớp em cần có bao nhiêu quyển vở?

