

Họ và tên:

Lớp:

ĐỀ KIỂM TRA HỌC KÌ 1 – ĐỀ 13

Môn: Toán – Lớp 3

Bộ sách: Cánh diều

Thời gian làm bài: 40 phút

I. TRẮC NGHIỆM

(Khoanh vào chữ đặt trước câu trả lời đúng)

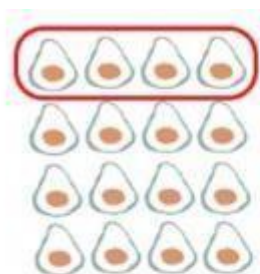
Câu 1. Số liền trước của số 540 là:

- A. 538 B. 541 C. 539 D. 542

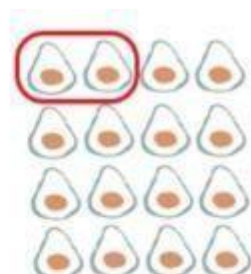
Câu 2. Chia đều 36 l nước mắm vào 9 can. Hỏi mỗi can có bao nhiêu lít nước mắm?

- A. 2 B. 3 C. 4 D. 5

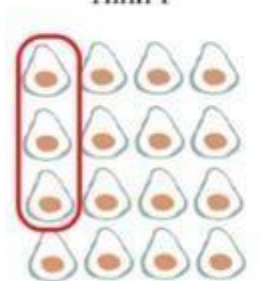
Câu 3. Trong các hình vẽ dưới đây, hình nào đã khoanh vào $\frac{1}{8}$ quả bơ:



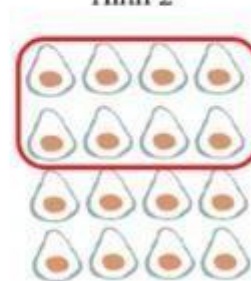
Hình 1



Hình 2



Hình 3



Hình 4

- A. Hình 1 B. Hình 2 C. Hình 3 D. Hình 4

Câu 4. Điền vào chỗ chấm 3 kg = g

- A. 3000 B. 300 C. 30 D. 3

Câu 5. Số dư của phép chia 628 : 8 là:

- A. 4 B. 3 C. 2 D. 5

Câu 6. Nhiệt độ cơ thể người bình thường khoảng

- A. 35°C B. 37°C C. 38°C D. 40°C

II. TỰ LUẬN

Câu 7. Đặt tính rồi tính.

$$106 \times 8$$

$$543 : 3$$

.....
.....
.....
Câu 8. Thực hiện phép tính:

a) $345 : 5 + 234$

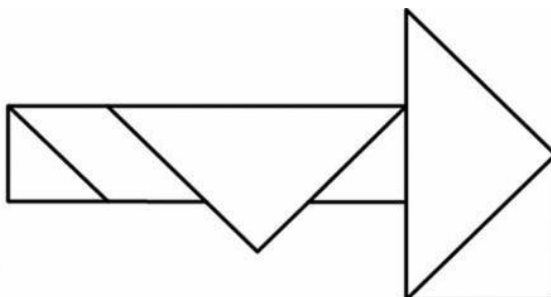
b) $2 \times 431 - 323$

.....
.....
.....

Câu 9. Thu hoạch ở thửa ruộng thứ nhất được 127 kg cà chua, ở thửa ruộng thứ hai nhiều gấp 3 lần số cà chua ở thửa ruộng thứ nhất. Hỏi thu hoạch ở cả hai thửa ruộng được bao nhiêu ki-lô-gam cà chua?

.....
.....
.....
.....

Câu 10. Trong hình bên có hình tứ giác.



Câu 11. Tính nhanh các giá trị của biểu thức dưới đây:

a) $576 + 678 + 780 - 476 - 578 - 680$

.....
.....
.....

b) $(126 + 32) \times (18 - 16 - 2)$

.....
.....
.....