

Họ và tên:

Lớp:

ĐỀ KIỂM TRA HỌC KÌ 1 – ĐỀ 3

Môn: Toán – Lớp 4

Bộ sách: Chân trời sáng tạo

Thời gian làm bài: 40 phút

I. TRẮC NGHIỆM (Khoanh vào chữ đặt trước câu trả lời đúng)

Câu 1. Số “Sáu trăm bốn mươi một triệu tám trăm hai mươi nghìn” viết là:

- A. 640 820 000 B. 641 802 000 C. 641 822 000 D. 641 820 000

Câu 2. Số thứ sáu trong dãy số 212, 232, 252, 272, là:

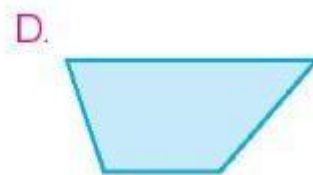
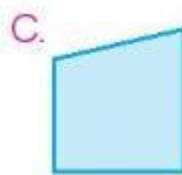
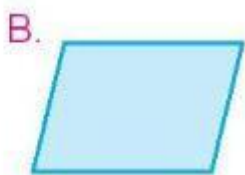
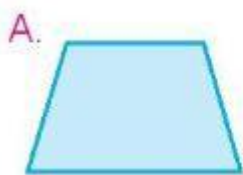
- A. 292 B. 302 C. 312 D. 322

Câu 3. Trong các dãy số sau, đâu là dãy số lẻ?

- A. 15 376; 15 377; 15 378 B. 33 053; 33 055; 33 057

- C. 2 168; 2 170; 2 172; 2 174 D. 2 340; 2 345; 2 350; 2 155

Câu 4. Hình có 2 góc nhọn, 2 góc tù và 2 cặp cạnh song song là:



Câu 5. Lễ kỉ niệm 600 năm ngày sinh của Đại thi hào Nguyễn Trãi được tổ chức vào năm 1980.

Vậy Đại thi hào Nguyễn Trãi được sinh ra ở thế kỉ:

- A. XIII B. XIV C. XIX D. XX

Câu 6. Một ô tô trong 2 giờ đầu mỗi giờ đi được 45 km và trong 3 giờ sau đi được 150 km. Vậy

trung bình mỗi giờ ô tô đó đi được số ki-lô-mét là:

- A. 65 km B. 48 km C. 42 km D. 46 km

II. TỰ LUẬN

Câu 1. Đặt tính rồi tính

538 042 + 142 378

729 062 – 68 504

5 143 x 3

47 012 : 7

.....

.....

.....

.....

.....

.....

.....

.....

.....

.....

.....

.....

Câu 2. Điền số thích hợp vào chỗ trống.

a) 12 tấn 7 yén =..... kg

b) 3 dm² 80 cm² =..... cm²

c) 9 234 dm² = m²..... dm²

d) 5 phút 45 giây =..... giây

Câu 3. Tính bằng cách thuận tiện.

a) $15\ 800 + (4\ 200 + 7\ 260) + 2\ 740$

.....
.....

b) $123 \times 97 + 2 \times 123 + 123$

.....
.....

Câu 4. Nam có 96 000 đồng mua được 6 quyển truyện tranh. Hỏi Minh muốn mua 9 quyển truyện tranh như vậy thì phải trả bao nhiêu tiền?

.....
.....
.....
.....
.....

Câu 5. Mảnh vườn trồng hoa hình chữ nhật có chiều dài 13 m, chiều rộng 5 m. Mảnh vườn trồng rau hình vuông có chu vi bằng chu vi của mảnh vườn trồng hoa. Tính diện tích của mảnh vườn trồng rau.

.....
.....
.....
.....
.....
.....