

Đề thi Toán lớp 5
(Global Success)

PHẦN I. TRẮC NGHIỆM

Khoanh tròn vào chữ cái đặt trước câu trả lời đúng:

Câu 1. Số gồm 4 chục nghìn, 8 nghìn, 9 trăm được viết là:

A. 489 000

B. 4 890

C. 48 900

D. 40 980

Câu 2. Kết quả của phép tính 105×45 là:

A. 4 725

B. 4 625

C. 4 525

D. 4 825

Câu 3.

$$17\ 804 = 10\ 000 + 7\ 000 + \boxed{?} + 4$$

Số thích hợp điền vào dấu hỏi chấm (?) là:

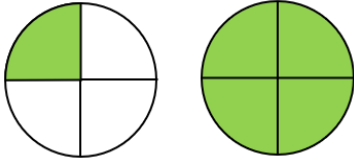
A. 80

B. 800

C. 8 000

D. 8

Câu 4. Phân số chỉ số phần đã tô màu trong hình vẽ dưới đây là:



A. $\frac{5}{4}$

B. $\frac{5}{8}$

C. $\frac{3}{4}$

D. $\frac{3}{8}$

Câu 5. Sắp xếp các phân số $\frac{1}{2}$, $\frac{1}{3}$, $\frac{3}{4}$, $\frac{1}{6}$ theo thứ tự tăng dần là:

A. $\frac{3}{4}$, $\frac{1}{6}$, $\frac{1}{2}$, $\frac{1}{3}$

B. $\frac{1}{2}$, $\frac{1}{3}$, $\frac{3}{4}$, $\frac{1}{6}$

C. $\frac{1}{6}$, $\frac{1}{3}$, $\frac{1}{2}$, $\frac{3}{4}$

D. $\frac{1}{6}$, $\frac{1}{2}$, $\frac{1}{3}$, $\frac{3}{4}$

Câu 6. Giá trị của biểu thức $2\ 641 - 356 \times 5$ là:

A. 861

B. 11 575

C. 961

D. 1 001

Câu 7. Bác Mai chia 300 kg vào các bao, mỗi bao 20 kg. Bác Mai đã bán đi $\frac{1}{3}$ số bao gạo với giá mỗi bao là 240 000 đồng. Hỏi bác Mai thu được bao nhiêu tiền bán gạo?



- A. 1 680 đồng
- B. 960 000 đồng
- C. 1 440 000 đồng
- D. 1 200 000 đồng

Câu 8. Trong các phân số $\frac{12}{15}$, $\frac{3}{9}$, $\frac{6}{11}$, $\frac{14}{25}$, $\frac{34}{19}$ có bao nhiêu phân số tối giản?

- A. 2 phân số
- B. 3 phân số
- C. 4 phân số
- D. 1 phân số

PHẦN II. TỰ LUẬN

Bài 1. Đặt tính rồi tính:

$$247\ 546 + 98\ 476$$

.....
.....
.....



$$561\ 234 - 297\ 103$$

.....
.....
.....

$$c) 245\ 168 \times 17$$

.....
.....
.....
.....
.....
.....



$$d) 478\ 145 : 23$$

.....
.....
.....
.....
.....
.....

Bài 2. Tính giá trị của biểu thức:

$$a) 24\ 514 - 356 \times 24$$

=
=
=

$$b) 145\ 780 + (25\ 461 - 4\ 961) \times 2$$


=
=
=

Bài 3. Điền số thích hợp vào chỗ chấm:



$\frac{1}{3}$ số bánh là: Cái bánh

$\frac{3}{5}$ số que kem là: Que kem



$\frac{7}{8}$ số bánh là: Cái bánh

$\frac{1}{6}$ số kẹo là: Cái kẹo

Bài 4. Quy đồng mẫu số các phân số sau rồi so sánh:

a) $\frac{6}{7}$ và $\frac{4}{9}$

.....
.....
.....
.....

b) $\frac{5}{3}$ và $\frac{9}{5}$

.....
.....
.....
.....

c) $\frac{11}{25}$ và $\frac{5}{4}$

.....
.....
.....
.....

Bài 5. Hoàn thành bảng sau:

Số gồm	Viết số	Đọc số
1 triệu, 4 chục nghìn, 7 trăm, 3 chục, 9 đơn vị	1 040 739	Một triệu không trăm bốn mươi nghìn bảy trăm ba mươi chín
2 trăm nghìn, 5 chục nghìn, 2 trăm, 9 đơn vị		
8 chục triệu, 9 trăm, 4 chục		
5 trăm nghìn, 3 nghìn, 8 chục, 6 đơn vị		

Bài 6. Một mảnh vườn hình chữ nhật chu vi bằng với chu vi hình vuông cạnh 5m. Biết chiều dài hơn chiều rộng 4 m.

a) Tính chiều dài, chiều rộng của mảnh vườn đó.

.....

.....

.....

.....

.....

.....

.....

.....

b) Người ta để $\frac{2}{3}$ diện tích mảnh vườn để trồng rau. Cứ $1 m^2$ thu hoạch được 5 kg rau. Hỏi người ta thu hoạch được bao nhiêu ki-lô-gam rau trên mảnh vườn đó.

Bài giải

.....

.....

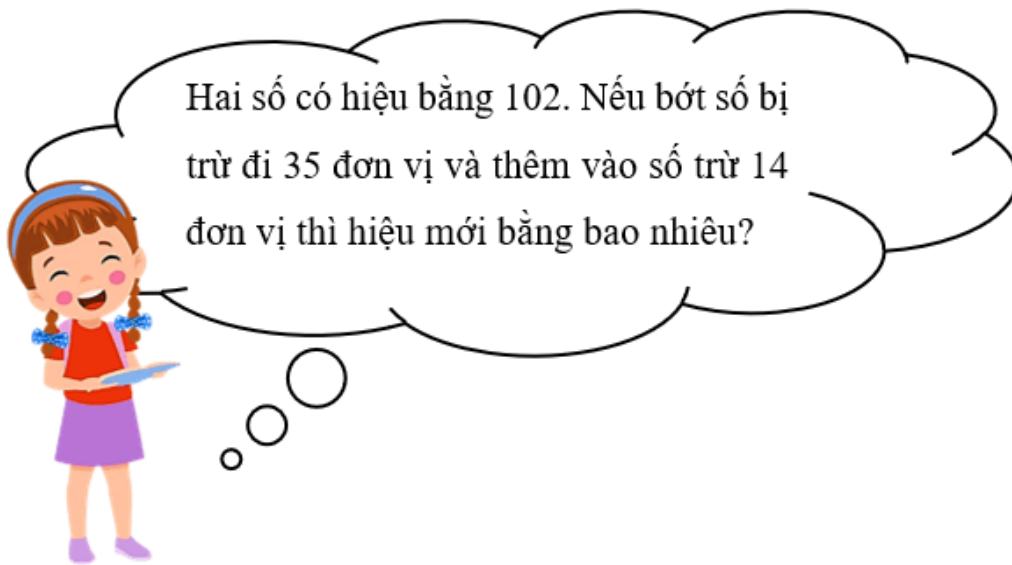
.....

.....

.....

.....

Bài 7. Đố em?



Câu trả lời: Hiệu mới bằng: